

1. Data la forma differenziale

$$\omega(x, y) = \left( \frac{4x}{4x^2 + 9y^2 - 1} + 2x \right) dx + \left( \frac{9y}{4x^2 + 9y^2 - 1} - x \right) dy.$$

a) Determinare il dominio  $D \subseteq \mathbb{R}^2$  di  $\omega$ , specificandone le proprietà topologiche (insieme chiuso, aperto, limitato, illimitato, connesso, non connesso, semplicemente connesso).

b) Calcolare  $\int_{\gamma^+} \omega$ , dove  $\gamma^+$  è il tratto di circonferenza di raggio 1 centrato nell'origine e contenuto nel secondo quadrante, percorso in verso antiorario.

---

Il dominio è il piano  $\mathbb{R}^2$  privato dell'ellisse  $\{4x^2 + 9y^2 = 1\}$ .  
Si tratta di un insieme aperto, non chiuso, illimitato, non connesso  
(e quindi non semplicemente connesso).

Proviamo a vedere se la forma differenziale è esatta.  
Purtroppo non lo è perché non è chiusa. Infatti

$$\begin{aligned} \frac{\partial}{\partial y} \left( \frac{4x}{4x^2 + 9y^2 - 1} + 2x \right) &= - \frac{72xy}{(4x^2 + 9y^2 - 1)^2} \neq \\ &\neq \frac{\partial}{\partial x} \left( \frac{9y}{4x^2 + 9y^2 - 1} - x \right) = - \frac{72xy}{(4x^2 + 9y^2 - 1)^2} - 1. \end{aligned}$$

Quindi il problema è costituito dal "-x" nella seconda componente della f. d. Questo suggerisce di scrivere  $\omega$  nella forma

$$\omega = \omega_1 + \omega_2,$$

dove

$$\omega_1 = \left( \frac{4x}{4x^2 + 9y^2 - 1} + 2x \right) dx + \frac{9y}{4x^2 + 9y^2 - 1} dy$$

$$\omega_2 = -x dy$$

$\omega_1$  è chiusa, e anzi si vede facilmente che è esatta.

Una sua primitiva è data da

$$V(x,y) = \frac{1}{2} \ln |4x^2 + 9y^2 - 1| + x^2 + c$$

Ne segue che  $\int_{\gamma^+} \omega = \int_{\gamma^+} \omega_1 + \int_{\gamma} \omega_2$

$$\int_{\gamma^+} \omega_1 = V(-1,0) - V(0,1) = \frac{1}{2} \ln 3 + 1 - \frac{1}{2} \ln 8$$

Per integrare  $\int_{\gamma^+} \omega_2$  si può fare il calcolo diretto:

$$\begin{aligned} \int_{\gamma^+} \omega_2 &= - \int_{\gamma^+} x \, dy = - \int_{\pi/2}^{\pi} \cos \theta \cdot \cos \theta \, d\theta = - \int_{\pi/2}^{\pi} \frac{1 + \cos 2\theta}{2} \, d\theta \\ &= - \frac{\pi}{4} \end{aligned}$$

in quanto  $\gamma^+$  si parametrizza come  $\begin{cases} x(\theta) = \cos \theta \\ y(\theta) = \sin \theta \end{cases}, \theta \in \left[ \frac{\pi}{2}, \pi \right]$

Quindi  $\int_{\gamma} \omega = 1 - \frac{\pi}{4} + \frac{1}{2} \ln \frac{3}{8}$

2. Sia data la funzione di due variabili  $f(x, y) = xy(x^2 - y^2 - 4)$ .

a) Determinare e classificare gli eventuali punti critici di  $f$ .

b) Determinare il massimo assoluto ed il minimo assoluto di  $f$  nell'insieme

$$D = \{(x, y) : x^2 + y^2 \leq 4, x \geq 0, 2y \leq x\}.$$

Le derivate parziali di  $f$  valgono:

$$f_x(x, y) = y [x^2 - y^2 - 4 + 2x^2] = y [3x^2 - y^2 - 4]$$

$$f_y(x, y) = x [x^2 - y^2 - 4 - 2y^2] = x [x^2 - 3y^2 - 4]$$

I punti critici sono quelli che annullano entrambe le derivate, e cioè i tre punti  $(0, 0)$ ;  $(\pm 2, 0)$ .

Classifichiamoli. Le derivate seconde valgono:

$$f_{xx}(x, y) = 6xy$$

$$f_{xy}(x, y) = 3x^2 - y^2 - 4 - 2y^2 = 3x^2 - 3y^2 - 4$$

$$f_{yy}(x, y) = -6xy.$$

Ne segue che:  $D^2 f(0, 0) = \begin{bmatrix} 0 & -4 \\ -4 & 0 \end{bmatrix} \Rightarrow (0, 0)$  punto di sella;

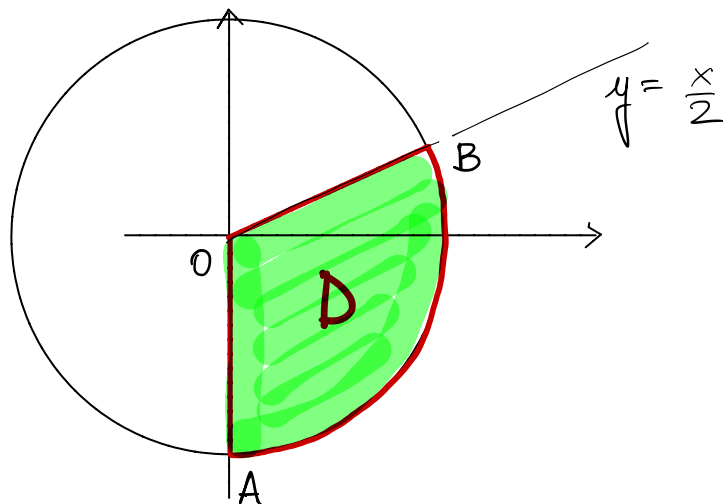
$D^2 f(\pm 2, 0) = \begin{bmatrix} 0 & 8 \\ 8 & 0 \end{bmatrix} \Rightarrow (\pm 2, 0)$  punti di sella.

Per la seconda domanda, sicuramente il massimo e il minimo assoluti esistono per il teorema di Weierstrass ( $f$  è continua, mentre  $D$  è chiuso e limitato).

D è fatto così:

I pti di massimo e minimo assoluti vanno cercati:

- nei pti critici interni a D (non ce ne sono)
- sulla frontiera  $\partial D$ .



Questa è costituita da tre archi di curva. Sul segmento OA la funzione vale identicamente zero.

Sul segmento OB la funzione vale

$$\varphi(x) = f\left(x, \frac{x}{2}\right) = \frac{1}{8}(3x^4 - 16x^2) \quad 0 \leq x \leq \frac{4}{\sqrt{5}}$$

$$\varphi'(x) = \frac{1}{2}(3x^3 - 8x), \text{ che si annulla per } x=0, x = \sqrt{\frac{8}{3}}.$$

I valori interessanti sono:  $\varphi(0) = 0$ ,  $\varphi\left(\sqrt{\frac{8}{3}}\right) = -\frac{8}{3}$

$$\varphi\left(\frac{4}{\sqrt{5}}\right) = -\frac{64}{25}.$$

Infine, sull'arco AB la funzione vale

$$\begin{aligned} \eta(\theta) &:= f(2\cos\theta, 2\sin\theta) = 16\cos\theta\sin\theta(\cos^2\theta - \sin^2\theta - 1) = \\ &= 8\sin(2\theta)(\cos(2\theta) - 1) \quad -\frac{\pi}{2} \leq \theta \leq \theta_0 = \arctan\frac{1}{2} \end{aligned}$$

$$\eta'(\theta) = 16 \left[ 2\cos^2(2\theta) - \cos(2\theta) - 1 \right]$$

che si annulla quando  $\cos(2\theta) = -\frac{1}{2}$  e  $\cos(2\theta) = 1$ .

$$\text{Nel nostro intervallo } \cos(2\theta) = -\frac{1}{2} \Rightarrow 2\theta = -\frac{2}{3}\pi \Rightarrow \eta(\theta) = 6\sqrt{3}$$

$$\cos(2\theta) = 1 \Rightarrow 2\theta = 0 \Rightarrow \eta(\theta) = 0.$$

Tenuto conto dei valori trovati, si ottiene che il massimo assoluto vale  $6\sqrt{3}$ , il minimo assoluto vale  $-\frac{8}{3}$ .

3. Calcolare il volume del seguente insieme:

$$\Omega = \{(x, y, z) \in \mathbb{R}^3 : x^2 + y^2 \leq 4, 0 \leq y \leq 2 - x, 0 \leq z \leq y\}.$$

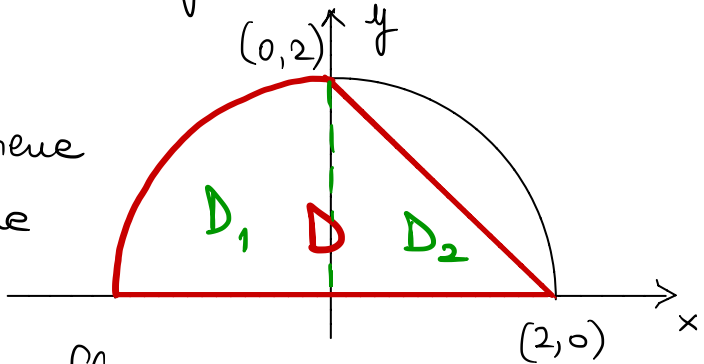
Si ha

$$\text{vol}(\Omega) = \iint_D y \, dx dy, \text{ dove}$$

$$D = \{(x, y) \in \mathbb{R}^2 : x^2 + y^2 \leq 4, 0 \leq y \leq 2 - x\}$$

Quindi  $D$  è fatto così:

Per calcolare l'integrale conviene spezzare il dominio nei due sottodomini  $D_1, D_2$ . Quindi



$$\text{vol}(\Omega) = \iint_{D_1} y \, dx dy + \iint_{D_2} y \, dx dy =$$

$$= \int_{\pi/2}^{\pi} d\theta \int_0^2 \rho^2 \sec\theta \, d\rho + \int_0^2 dx \int_0^{2-x} dy \, y =$$

$$= \frac{8}{3} (-\cos\theta) \Big|_{\pi/2}^{\pi} + \frac{1}{2} \int_0^2 (2-x)^2 dx = \frac{8}{3} + \frac{4}{3} = 4$$

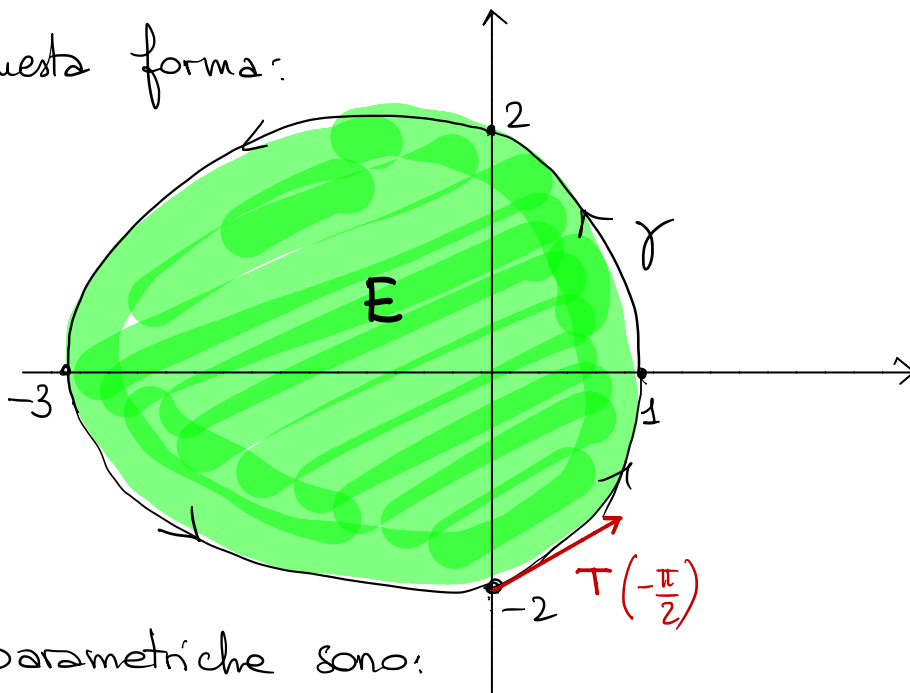
4. Disegnare la curva chiusa  $\gamma$  di equazione (in coordinate polari)

$$\rho = 2 - \cos\theta, \quad \theta \in [-\pi, \pi].$$

Calcolare il versore tangente a  $\gamma$  nel punto in cui questa interseca il semiasse negativo delle  $y$ . Infine, calcolare il flusso uscente da  $\gamma$  del campo vettoriale

$$\mathbf{F}(x, y) = (2x + y, y^2).$$

La curva  $\gamma$  ha questa forma:



Le sue equazioni parametriche sono:

$$\begin{cases} x(\theta) = (2 - \cos\theta) \cos\theta \\ y(\theta) = (2 - \cos\theta) \sin\theta \end{cases} \quad \theta \in [-\pi, \pi].$$

Le derivate valgono:

$$\begin{cases} x'(\theta) = 2 \sin\theta (\cos\theta - 1) \\ y'(\theta) = \sin^2\theta - \cos^2\theta + 2\cos\theta \end{cases}$$

Il punto che ci interessa corrisponde a  $\theta = -\frac{\pi}{2}$ ,

$$\begin{cases} x'(-\frac{\pi}{2}) = 2 \\ y'(-\frac{\pi}{2}) = 1 \end{cases} \Rightarrow \underline{T}\left(-\frac{\pi}{2}\right) = \frac{(2, 1)}{\sqrt{5}} = \left(\frac{2}{\sqrt{5}}, \frac{1}{\sqrt{5}}\right)$$

Per calcolare il flusso, si può applicare il teorema della divergenza.  
Dato  $E$  il dominio racchiuso da  $\gamma$ , si ha:

$$\int_{\gamma} \underline{F} \cdot \underline{N} \, ds = \iint_E \operatorname{div} \underline{F} \, dx \, dy = 2 \iint_E (1+y) \, dx \, dy = (*)$$

in quanto  $\operatorname{div} \underline{F} = 2(1+y)$ . A causa della simmetria del dominio rispetto all'asse  $x$ , il termine  $y$  ha integrale nullo. Pertanto

$$\begin{aligned} (*) &= 2 \iint_E dx \, dy = 4 \int_0^{\pi} d\theta \int_0^{2-\cos\theta} \rho \, \rho \, d\rho = \\ &= 2 \int_0^{\pi} (2-\cos\theta)^2 d\theta = 2 \int_0^{\pi} (4 - 4\cos\theta + \cos^2\theta) d\theta = \end{aligned}$$

↑  
termine a integrale nullo

$$= 8\pi + \pi = 9\pi$$

5. Risolvere il seguente problema di Cauchy:

$$\begin{cases} x^2 y''(x) + 5xy'(x) + 4y(x) = \frac{2}{x^2} \\ y(1) = 1 \\ y'(1) = 0 \end{cases}$$

Si tratta di un'eq<sup>ue</sup> di Eulero. Ponendo  $x = e^t$

$$v(t) = y(e^t) \iff y(x) = v(\ln x), \text{ si ottiene:}$$

$$y'(x) = \frac{v'(t)}{x}, \quad y''(x) = \frac{v''(t) - v'(t)}{x^2}$$

quindi l'eq<sup>ue</sup> diventa a coeff<sup>ti</sup> costanti

$$\begin{cases} v''(t) + 4v'(t) + 4v(t) = 2e^{-2t} \\ v(0) = 1 \\ v'(0) = 0 \end{cases}$$

Risolviamo prima l'eq<sup>ue</sup> omogenea associata:

$$\lambda^2 + 4\lambda + 4 = 0 \iff (\lambda + 2)^2 = 0 \iff \lambda = -2 \text{ (radice doppia)}$$

L'integr<sup>ale</sup> generale dell'omogenea associata è

$$z(t) = e^{-2t} (c_1 + c_2 t)$$

Cerco una soluzione della non omogenea nella forma

$$v_p(t) = At^2 e^{-2t} \quad (\text{essendo } \lambda = -2 \text{ una radice doppia dell'eq<sup>ue</sup> algebrica associata})$$

$$\Rightarrow v_p'(t) = A e^{-2t} (2t - 2t^2) = 2A e^{-2t} (t - t^2)$$

$$v_p''(t) = 2A e^{-2t} (1 - 2t - 2t + 2t^2) = 2A e^{-2t} (2t^2 - 4t + 1)$$



L'equazione diventa (dopo aver semplificato  $e^{-2t}$ ):

$$2A(2t^2 - 4t + 1) + 8A(t - t^2) + 4At^2 = 2$$

che è un'identità se e solo se  $A = 1$ .

Quindi l'integrale generale dell'equazione per  $v(t)$  è:

$$v(t) = e^{-2t} (c_1 + c_2 t + t^2).$$

Le condizioni iniziali forniscono  $c_1 = 1, c_2 = 2$

quindi  $v(t) = e^{-2t} (1 + 2t + t^2)$

Ne segue che  $y(x) = v(\ln x) = \frac{1 + 2 \ln x + \ln^2 x}{x^2}$

1. Data la forma differenziale

$$\omega(x, y) = \left( \frac{9x}{9x^2 + 4y^2 - 1} + y \right) dx + \left( \frac{4y}{9x^2 + 4y^2 - 1} - 2y \right) dy.$$

a) Determinare il dominio  $D \subseteq \mathbb{R}^2$  di  $\omega$ , specificandone le proprietà topologiche (insieme chiuso, aperto, limitato, illimitato, connesso, non connesso, semplicemente connesso).

b) Calcolare  $\int_{\gamma^+} \omega$ , dove  $\gamma^+$  è il tratto di circonferenza di raggio 1 centrato nell'origine e contenuto nel terzo quadrante, percorso in verso antiorario.

Il dominio è il piano  $\mathbb{R}^2$  privato dell'ellisse  $\{9x^2 + 4y^2 = 1\}$ .  
Si tratta di un insieme aperto, non chiuso, illimitato, non connesso  
(e quindi non semplicemente connesso).

Proviamo a vedere se la forma differenziale è esatta.  
Purtroppo non lo è perché non è chiusa. Infatti

$$\begin{aligned} \frac{\partial}{\partial y} \left( \frac{9x}{9x^2 + 4y^2 - 1} + y \right) &= - \frac{72xy}{(9x^2 + 4y^2 - 1)^2} + 1 \\ &\neq \frac{\partial}{\partial x} \left( \frac{4y}{9x^2 + 4y^2 - 1} - 2y \right) = - \frac{72xy}{(9x^2 + 4y^2 - 1)^2} \end{aligned}$$

Quindi il problema è costituito dal "+y" nella prima componente della f. d. Questo suggerisce di scrivere  $\omega$  nella forma

$$\omega = \omega_1 + \omega_2,$$

dove

$$\omega_1 = \frac{9x}{9x^2 + 4y^2 - 1} dx + \left( \frac{4y}{9x^2 + 4y^2 - 1} - 2y \right) dy$$

$$\omega_2 = y dx$$

$\omega_1$  è chiusa, e anzi si vede facilmente che è esatta.

Una sua primitiva è data da

$$V(x,y) = \frac{1}{2} \ln |9x^2 + 4y^2 - 1| - y^2 + c$$

Ne segue che  $\int_{\gamma^+} \omega = \int_{\gamma^+} \omega_1 + \int_{\gamma} \omega_2$

$$\int_{\gamma^+} \omega_1 = V(0, -1) - V(-1, 0) = \frac{1}{2} \ln 3 - 1 - \frac{1}{2} \ln 8$$

Per integrare  $\int_{\gamma^+} \omega_2$  si può fare il calcolo diretto:

$$\int_{\gamma^+} \omega_2 = \int_{\gamma^+} y dx = \int_{\pi}^{3\pi/2} \sin \theta (-\cos \theta) d\theta = \int_{\pi}^{3\pi/2} \frac{\cos 2\theta - 1}{2} d\theta =$$

*questo termine  
da integrare  
zero*

$$= -\frac{\pi}{4}$$

in quanto  $\gamma^+$  si parametrizza come  $\begin{cases} x(\theta) = \cos \theta \\ y(\theta) = \sin \theta \end{cases}, \theta \in \left[ \pi, \frac{3\pi}{2} \right]$

Quindi  $\int_{\gamma} \omega = \frac{1}{2} \ln \frac{3}{8} - 1 - \frac{\pi}{4}$

2. Sia data la funzione di due variabili  $f(x, y) = xy(y^2 - x^2 - 4)$ .

a) Determinare e classificare gli eventuali punti critici di  $f$ .

b) Determinare il massimo assoluto ed il minimo assoluto di  $f$  nell'insieme

$$D = \{(x, y) : x^2 + y^2 \leq 4, y \geq 0, 2x \leq y\}.$$

---

Le derivate parziali di  $f$  valgono:

$$f_x(x, y) = y [y^2 - x^2 - 4 - 2x^2] = y [-3x^2 + y^2 - 4]$$

$$f_y(x, y) = x [y^2 - x^2 - 4 + 2y^2] = x [-x^2 + 3y^2 - 4]$$

I punti critici sono quelli che annullano entrambe le derivate, e cioè i tre punti  $(0, 0)$ ;  $(0, \pm 2)$ .

Classifichiamoli. Le derivate seconde valgono:

$$f_{xx}(x, y) = -6xy$$

$$f_{xy}(x, y) = -3x^2 + y^2 - 4 + 2y^2 = -3x^2 + 3y^2 - 4$$

$$f_{yy}(x, y) = 6xy.$$

Ne segue che:  $D^2 f(0, 0) = \begin{bmatrix} 0 & -4 \\ -4 & 0 \end{bmatrix} \Rightarrow (0, 0)$  punto di sella;

$D^2 f(0, \pm 2) = \begin{bmatrix} 0 & 8 \\ 8 & 0 \end{bmatrix} \Rightarrow (0, \pm 2)$  punti di sella.

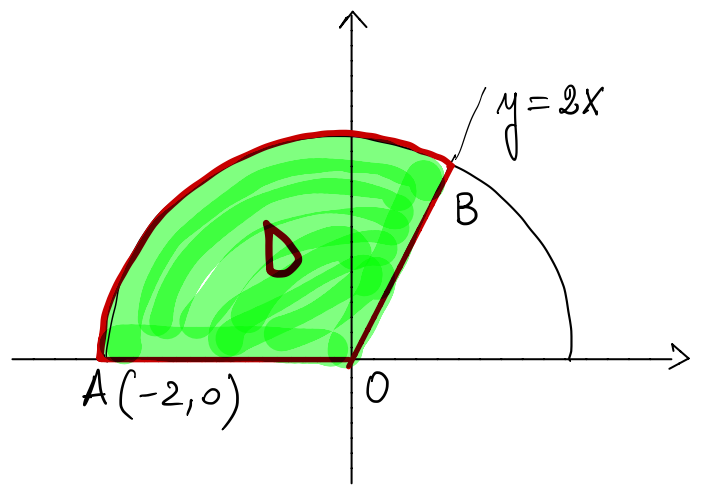
Per la seconda domanda, sicuramente il massimo e il minimo assoluti esistono per il teorema di Weierstrass ( $f$  è continua, mentre  $D$  è chiuso e limitato).

D è fatto così:

I pti di massimo e

minimo assoluti vanno cercati:

• nei pti critici interni a D  
(non ce ne sono)



• sulla frontiera  $\partial D$ .

Questa è costituita da tre archi di curva. Sul segmento OA la funzione vale identicamente zero.

Sul segmento OB la funzione vale

$$\varphi(x) = f(x, 2x) = 2x^2(3x^2 - 4) \quad 0 \leq x \leq \frac{2}{\sqrt{5}}$$

$$\varphi'(x) = 8x(3x^2 - 2), \text{ che si annulla per } x = 0, x = \sqrt{\frac{2}{3}}.$$

I valori interessanti sono:  $\varphi(0) = 0$ ,  $\varphi\left(\sqrt{\frac{2}{3}}\right) = -\frac{8}{3}$

$$\varphi\left(\frac{2}{\sqrt{5}}\right) = -\frac{64}{25}.$$

Infine, sull'arco AB la funzione vale

$$\begin{aligned} \eta(\theta) &:= f(2\cos\theta, 2\sin\theta) = 16\cos\theta\sin\theta(\sin^2\theta - \cos^2\theta - 1) = \\ &= -8\sin(2\theta)(\cos(2\theta) + 1) \quad \arctan 2 := \theta_0 \leq \theta \leq \pi \end{aligned}$$

$$\eta'(\theta) = -16 \left[ 2\cos^2(2\theta) + \cos(2\theta) - 1 \right]$$

che si annulla quando  $\cos(2\theta) = \frac{1}{2}$  e  $\cos(2\theta) = -1$

Nel nostro intervallo  $\cos(2\theta) = \frac{1}{2} \Rightarrow 2\theta = \frac{5}{3}\pi \Rightarrow \theta = \frac{5}{6}\pi \Rightarrow \eta(\theta) = 6\sqrt{3}$

$\cos(2\theta) = -1 \Rightarrow 2\theta = 2\pi \Rightarrow \eta(\theta) = 0.$

Tenuto conto dei valori trovati, si ottiene che il massimo assoluto vale  $6\sqrt{3}$ , il minimo assoluto vale  $-\frac{8}{3}$ .

3. Calcolare il volume del seguente insieme:

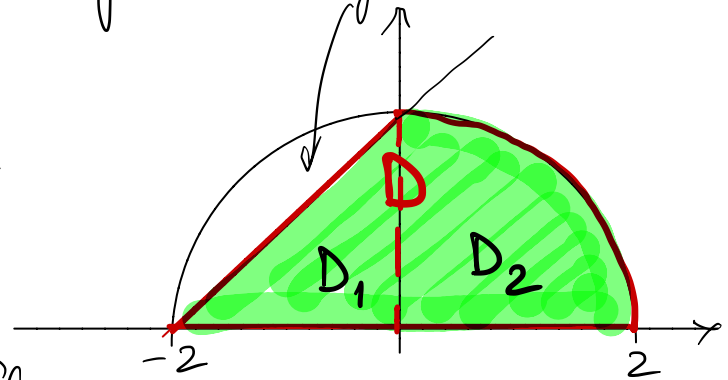
$$\Omega = \{(x, y, z) \in \mathbb{R}^3 : x^2 + y^2 \leq 4, 0 \leq y \leq x+2, 0 \leq z \leq y\}.$$

Si ha

$$\text{vol}(\Omega) = \iint_D y \, dx \, dy, \text{ dove}$$

$$D = \{(x, y) \in \mathbb{R}^2 : x^2 + y^2 \leq 4, 0 \leq y \leq x+2\}$$

Quindi  $D$  è fatto così:  
Per calcolare l'integrale conviene  
spartire il dominio nei due  
sottodomini  $D_1, D_2$ . Quindi:



$$\text{vol}(\Omega) = \iint_{D_1} y \, dx \, dy + \iint_{D_2} y \, dx \, dy =$$

$$= \int_{-2}^0 dx \int_0^{x+2} dy \, y + \int_0^{\pi/2} d\theta \int_0^2 dp \, p^2 \sin \theta$$

$$= \frac{1}{2} \int_{-2}^0 (x+2)^2 dx + \frac{8}{3} (-\cos \theta) \Big|_0^{\pi/2} = \frac{4}{3} + \frac{8}{3} = 4$$

4. Disegnare la curva chiusa  $\gamma$  di equazione (in coordinate polari)

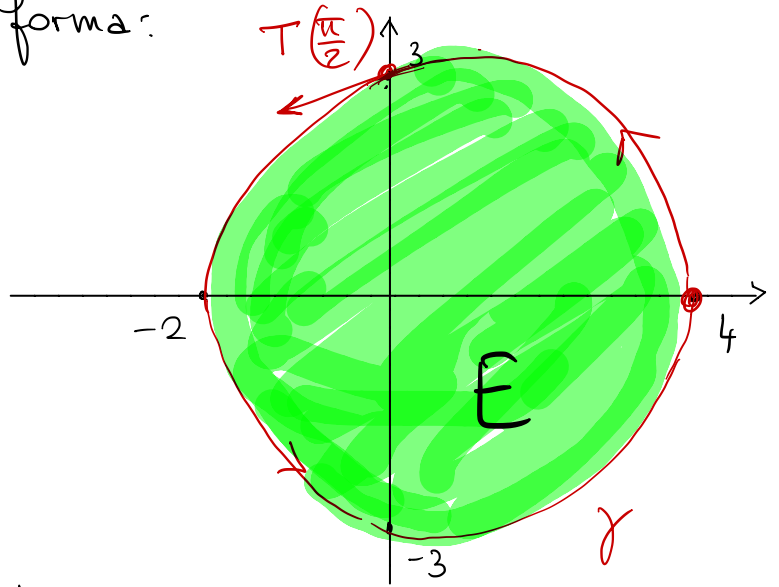
$$\rho = 3 + \cos \theta, \quad \theta \in [0, 2\pi].$$

Calcolare il versore tangente a  $\gamma$  nel punto in cui questa interseca il semiasse positivo delle  $y$ . Infine, calcolare il flusso uscente da  $\gamma$  del campo vettoriale

$$\mathbf{F}(x, y) = (xy, x + 3y).$$

La curva  $\gamma$  ha questa forma:

$$-\sin^2 \theta + 3 \cos \theta + \cos^2 \theta.$$



Le sue equazioni parametriche sono:

$$\begin{cases} x(\theta) = (3 + \cos \theta) \cos \theta \\ y(\theta) = (3 + \cos \theta) \sin \theta \end{cases} \quad \theta \in [0, 2\pi].$$

Le derivate valgono:

$$\begin{cases} x'(\theta) = -\sin \theta (2 \cos \theta + 3) \\ y'(\theta) = \cos^2 \theta + 3 \cos \theta - \sin^2 \theta \end{cases}$$

Il punto che ci interessa corrisponde a  $\theta = \frac{\pi}{2}$ .

$$\begin{cases} x'(\frac{\pi}{2}) = -3 \\ y'(\frac{\pi}{2}) = -1 \end{cases} \Rightarrow \underline{T}\left(\frac{\pi}{2}\right) = \frac{(-3, -1)}{\sqrt{10}} = \frac{1}{\sqrt{10}} \left( -\frac{3}{\sqrt{10}}, -\frac{1}{\sqrt{10}} \right)$$

Per calcolare il flusso, si può applicare il teorema della divergenza.  
Detto  $E$  il dominio racchiuso da  $\gamma$ , si ha:

$$\int_{\gamma} \underline{F} \cdot \underline{N} \, ds = \iint_E \operatorname{div} \underline{F} \, dx \, dy = \iint_E (y+3) \, dx \, dy = (*)$$

in quanto  $\operatorname{div} \underline{F} = y+3$ . A causa della simmetria del dominio rispetto all'asse  $x$ , il termine  $y$  ha integrale nullo. Pertanto

$$(*) = 3 \iint_E dx \, dy = 6 \int_0^{\pi} d\theta \int_0^{3+\cos\theta} \rho \, \rho =$$

$$= 3 \int_0^{\pi} (3+\cos\theta)^2 d\theta = 3 \int_0^{\pi} (9 + 6\cos\theta + \cos^2\theta) d\theta =$$

↑ termine a integrale nullo

$$= 27\pi + \frac{3}{2}\pi = \frac{57}{2}\pi$$



5. Risolvere il seguente problema di Cauchy:

$$\begin{cases} x^2 y''(x) - 3xy'(x) + 4y(x) = 3x^2 \\ y(1) = 1 \\ y'(1) = 0 \end{cases}$$

Si tratta di un'eq<sup>ne</sup> di Eulero. Ponendo  $x = e^t$

$$v(t) = y(e^t) \iff y(x) = v(\ln x), \text{ si ottiene:}$$

$$y'(x) = \frac{v'(t)}{x}, \quad y''(x) = \frac{v''(t) - v'(t)}{x^2}$$

quindi l'eq<sup>ne</sup> diventa a coeff<sup>ti</sup> costanti

$$\begin{cases} v''(t) - 4v'(t) + 4v(t) = 3e^{2t} \\ v(0) = 1 \\ v'(0) = 0 \end{cases}$$

Risolviamo prima l'eq<sup>ne</sup> omogenea associata:

$$\lambda^2 - 4\lambda + 4 = 0 \iff (\lambda - 2)^2 = 0 \iff \lambda = 2 \text{ (radice doppia)}$$

L'integr. generale dell'omogenea associata è

$$z(t) = e^{2t} (c_1 + c_2 t)$$

Cerco una soluzione della non omogenea nella forma

$$v_p(t) = At^2 e^{2t} \quad (\text{essendo } \lambda = 2 \text{ una radice doppia dell'eq<sup>ne</sup> algebrica associata})$$

$$\Rightarrow v_p'(t) = A e^{2t} (2t + 2t^2) = 2A e^{2t} (t + t^2)$$

$$v_p''(t) = 2A e^{2t} (1 + 2t + 2t + 2t^2) = 2A e^{2t} (2t^2 + 4t + 1)$$

L'equazione diventa (dopo aver semplificato  $e^{2t}$ ):

$$2A(2t^2 + 4t + 1) - 8A(t + t^2) + 4At^2 = 3$$

che è un'identità se e solo se  $A = \frac{3}{2}$ .

Quindi l'integrale generale dell'equazione per  $v(t)$  è:

$$v(t) = e^{2t} \left( c_1 + c_2 t + \frac{3}{2} t^2 \right).$$

Le condizioni iniziali forniscono  $c_1 = 1, c_2 = -2$

quindi  $v(t) = e^{2t} \left( 1 - 2t + \frac{3}{2} t^2 \right)$

Ne segue che  $y(x) = v(\ln x) = x^2 \left( 1 - 2 \ln x + \frac{3}{2} \ln^2 x \right)$