

7) Additività rispetto al dominio di integrazione.

Se D dominio normale è unione di due domini normali D_1 e D_2 senza punti interni in comune, e se $f \in \mathcal{R}(D)$, allora

$$\iint_D f(x,y) dx dy = \iint_{D_1} f(x,y) dx dy + \iint_{D_2} f(x,y) dx dy.$$

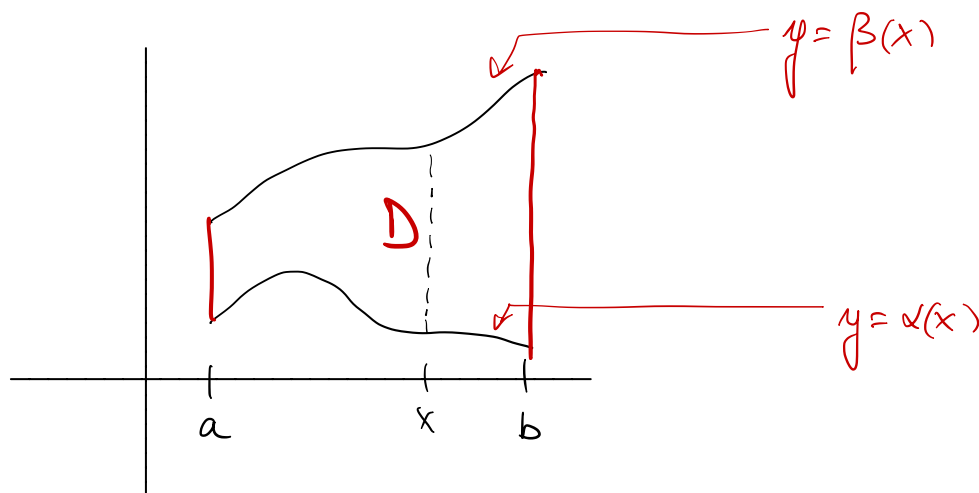
OGGI ESERCITAZIONE FACOLTATIVA ore 16:00
AULA III DIP. MATEMATICA

Formule di riduzione per il calcolo di integrali doppi.

D dominio x-normale

$$D = \{ (x,y) \in \mathbb{R}^2 : a \leq x \leq b, \alpha(x) \leq y \leq \beta(x) \}$$

$\alpha, \beta: [a,b] \rightarrow \mathbb{R}$
continue
e t.c.
 $\alpha(x) \leq \beta(x)$
 $\forall x$



$f(x,y): D \rightarrow \mathbb{R}$ funzione continua in D. Allora vale la seguente formula.

$$\iint_D f(x,y) dx dy = \int_a^b \left(\int_{\alpha(x)}^{\beta(x)} f(x,y) dy \right) dx$$

Questa è una funzione continua della x

Ovviamente se D è y-normale, cioè

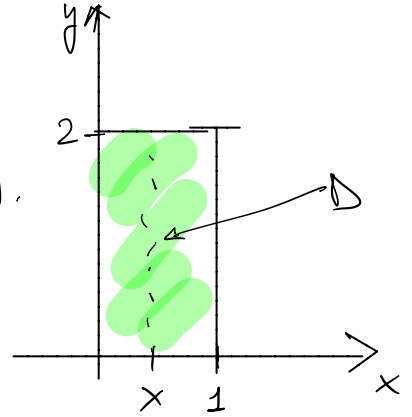
$$D = \{ (x,y) : c \leq y \leq d, \gamma(y) \leq x \leq \delta(y) \}$$

$$\iint_D f(x,y) dx dy = \int_c^d \left(\int_{\gamma(y)}^{\delta(y)} f(x,y) dx \right) dy$$

Se il dominio è normale rispetto a entrambi gli assi, valgono entrambe le formule, che devono dare lo stesso risultato.

ESEMPIO Calcolare

$$\iint_D \frac{x}{1+y} dx dy \quad \text{dove } D = [0,1] \times [0,2].$$



continua in D.

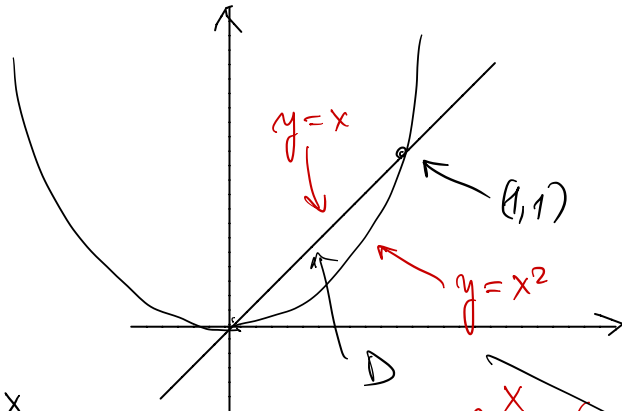
$$\begin{aligned} \iint_D \frac{x}{1+y} dx dy &= \int_0^1 dx \left(\int_0^2 dy \frac{x}{1+y} \right) = \\ &= \int_0^1 dx \times \ln |1+y| \Big|_{y=0}^{y=2} = \int_0^1 dx \times \ln 3 = \frac{\ln 3}{2} \end{aligned}$$

ESEMPIO Calcolare $\iint_D (2x+3y) dx dy$

dove D è la regione di piano compresa tra la parabola $y=x^2$ e la retta $y=x$

OSS D è un dominio x normale

$$D = \{(x,y) : 0 \leq x \leq 1, x^2 \leq y \leq x\}$$



$$\iint_D (2x+3y) dx dy = \int_0^1 dx \left(\int_{x^2}^x dy (2x+3y) \right) =$$

~~$$\int_{x^2}^x dy \left(\int_0^1 dx (2x+3y) \right)$$~~

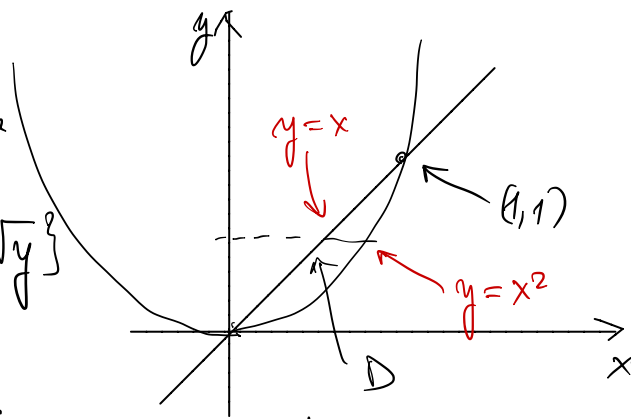
$$= \int_0^1 dx \left[2x(x-x^2) + \frac{3}{2} y^2 \Big|_{y=x^2}^{y=x} \right] = \int_0^1 (2x^2 - 2x^3 + \frac{3}{2} x^2 - \frac{3}{2} x^4) dx =$$

$$= \left(\frac{7}{6} x^3 - \frac{x^4}{2} - \frac{3}{10} x^5 \right) \Big|_0^1 = \frac{7}{6} - \frac{1}{2} - \frac{3}{10} = \frac{35 - 15 - 9}{30} = \frac{11}{30}$$

OSS. importante:

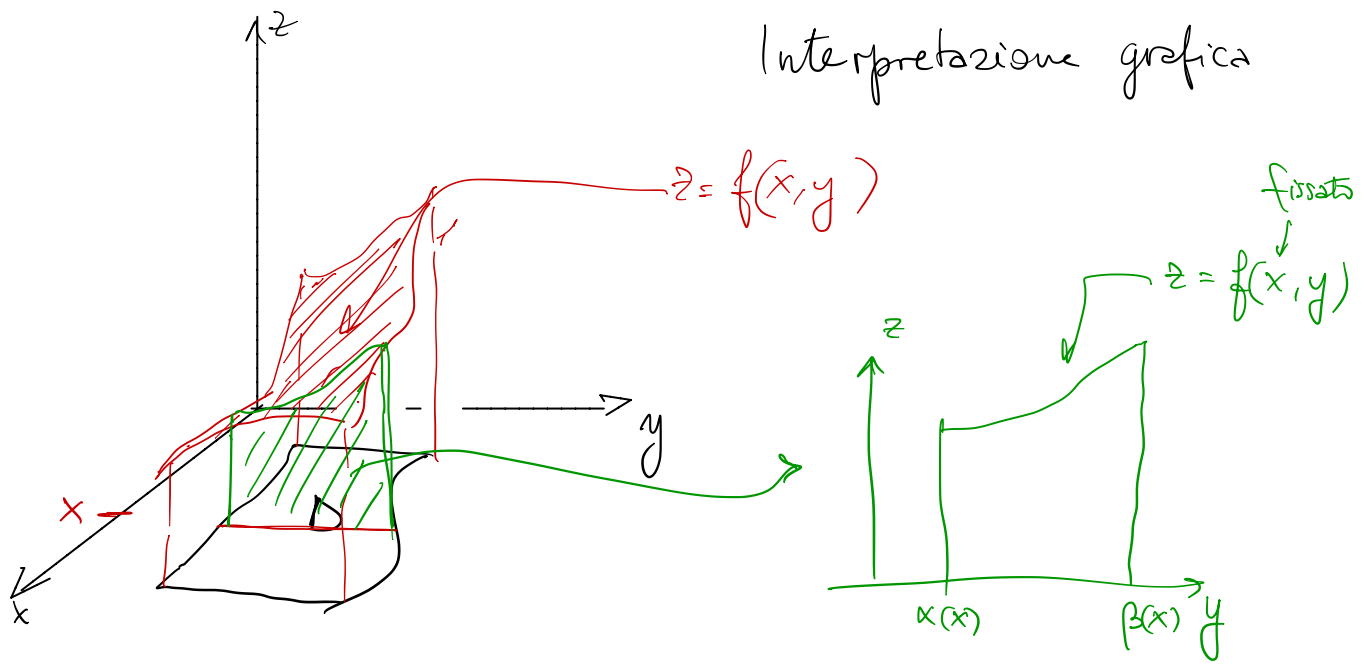
D è anche un dominio y -normale

$$D = \{(x, y) : 0 \leq y \leq 1, y \leq x \leq \sqrt{y}\}$$



$$\begin{aligned} \iint_D (2x+3y) dx dy &= \int_0^1 dy \int_y^{\sqrt{y}} dx (2x+3y) = \int_0^1 dy \left(x^2 \Big|_{x=y}^{x=\sqrt{y}} + 3y(\sqrt{y}-y) \right) = \\ &= \int_0^1 dy (y - y^2 + 3y^{3/2} - 3y^2) = \frac{1}{2} - \frac{4}{3} + 3 \cdot \frac{2}{5} = \frac{15 - 40 + 36}{30} = \frac{11}{30} \end{aligned}$$

Interpretazione grafica

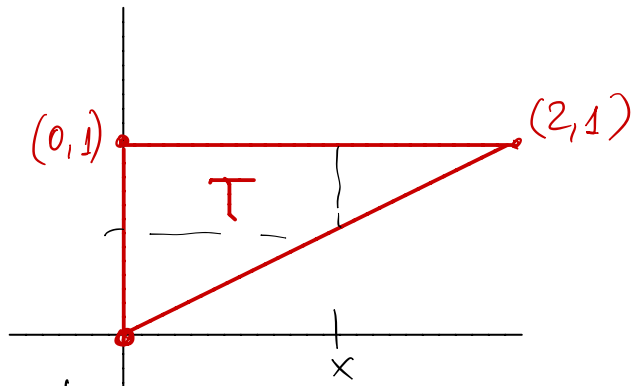


ESERCIZIO

ESERCIZIO. Calcolare $\iint_T e^{y^2} dx dy$ dove T è il triangolo
di vertici $(0,0)$, $(0,1)$ e $(2,1)$

$$T = \left\{ (x,y) : 0 \leq x \leq 2, \frac{x}{2} \leq y \leq 1 \right\}$$

$$\iint_T e^{y^2} dx dy = \int_0^2 dx \int_{x/2}^1 dy e^{y^2} = \text{non lo sappiamo fare!}$$



Proviamo a invertire l'ordine di integrazione:

$$T = \left\{ (x,y) : 0 \leq y \leq 1, 0 \leq x \leq 2y \right\}$$

$$\iint_T e^{y^2} dx dy = \int_0^1 dy \left(\int_0^{2y} dx e^{y^2} \right) = \int_0^1 dy e^{y^2} 2y = e^{y^2} \Big|_0^1 = e - 1$$

OSS Quindi scegliere bene l'ordine di integrazione è (a volte) cruciale!

ESERCIZIO $\iint_A (x+y) e^{x^2+y^2} dx dy = 0$

$A = \{ (x,y) : |x| + |y| \leq 1 \}$. dominio simmetrico rispetto all'asse x e all'asse y .

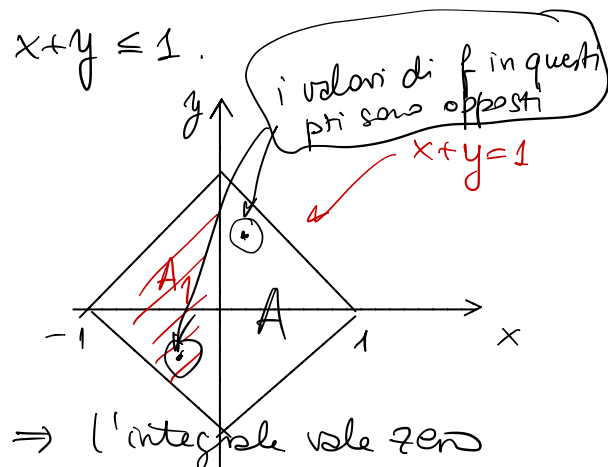
Se prendo $x \geq 0, y \geq 0$, diventa

$$A = A_1 \cup A_2$$

$$A_1 = \{ (x,y) : -1 \leq x \leq 1, -1-x \leq y \leq 1+x \}$$

$$A_2 = \{ (x,y) : 0 \leq x \leq 1, -1+x \leq y \leq 1-x \}$$

Ma non serve integrare su A_1 e A_2 , perché $f(-x,-y) = f(x,y) \Rightarrow$ l'integrale vale zero



ESERCIZIO Calcolare il volume del tetraedro di vertici:

$(0,0,0)$, $(1,0,0)$, $(0,2,0)$, $(0,0,3)$.

$$\text{Vol}(\text{tetraedro}) = \iint_D (3 - 3x - \frac{3}{2}y) dx dy = [*]$$

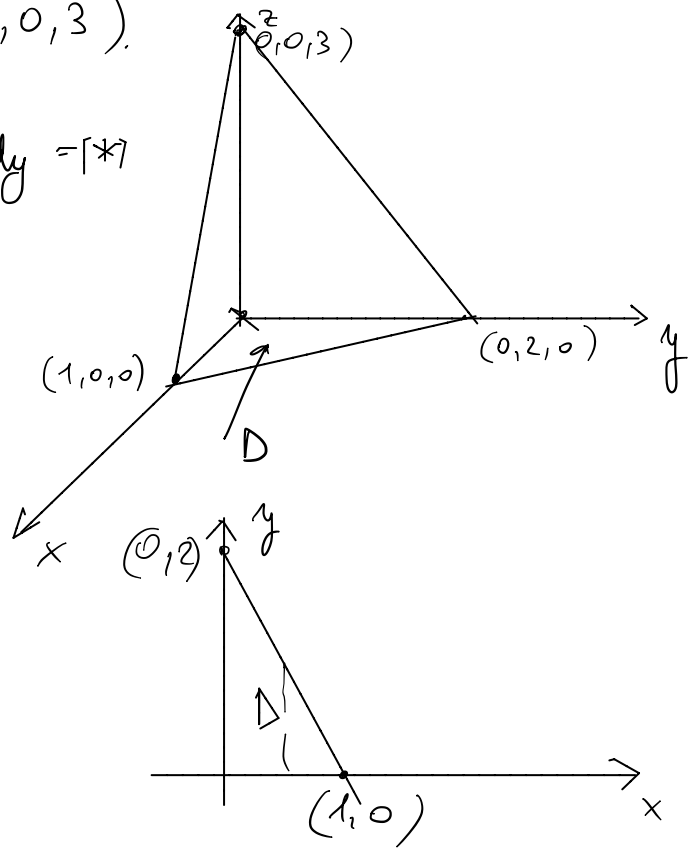
$$z = 3 + \overset{-3}{a}x + \overset{-3/2}{b}y$$

dove D è il triangolo del piano xy di vertici $(0,0)$, $(1,0)$ e $(0,2)$

$$[*] = 3 \int_0^1 dx \int_0^{2-2x} dy (1 - x - \frac{y}{2}) =$$

$$= 3 \int_0^1 dx \left[2(1-x)^2 - \frac{1}{4}(2-2x)^2 \right] = 3 \int_0^1 dx (1-x)^2 = \frac{3}{3} (1-x)^3 \Big|_1^0 = 1$$

in accordo con la formula elementare $V = \frac{b \cdot h}{3}$.



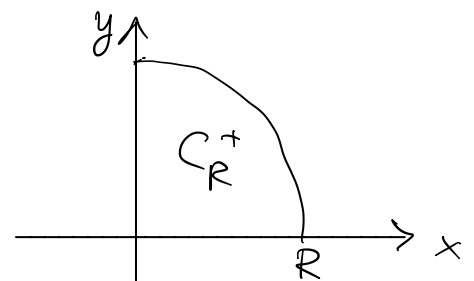
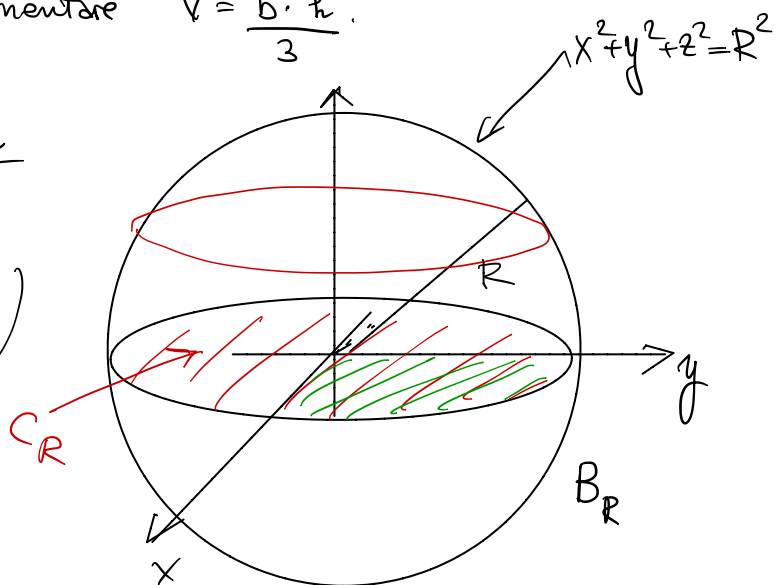
Volume di una palla di raggio R

$$\text{Vol}(B_R) = 2 \iint_{C_R} \sqrt{R^2 - x^2 - y^2} dx dy =$$

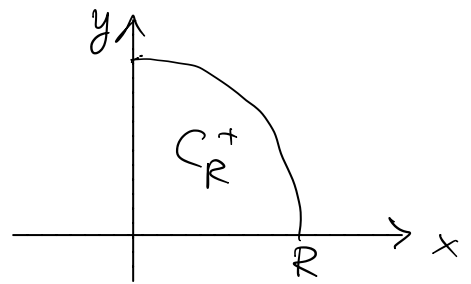
$$C_R = \{(x,y) : x^2 + y^2 \leq R^2\}$$

$$= (\text{per simmetria}) = 8 \iint_{C_R^+} \sqrt{R^2 - x^2 - y^2} dx dy$$

$$C_R^+ = \{(x,y) : 0 \leq x \leq R, 0 \leq y \leq \sqrt{R^2 - x^2}\}$$



$$\text{Vol}(B_R) = 8 \iint_{C_R^+} \sqrt{R^2 - x^2 - y^2} dx dy = (*)$$



$$C_R^+ = \{(x, y) : 0 \leq x \leq R, 0 \leq y \leq \sqrt{R^2 - x^2}\}$$

$$(*) = 8 \int_0^R dx \int_0^{\sqrt{R^2 - x^2}} dy \sqrt{R^2 - x^2 - y^2} = (**)$$

$$\begin{aligned} \int dy \sqrt{a^2 - y^2} &= y \sqrt{a^2 - y^2} + \int \frac{y^2 - a^2 + a^2}{\sqrt{a^2 - y^2}} dy = \\ &= y \sqrt{a^2 - y^2} - \int \sqrt{a^2 - y^2} dy + \int \frac{a^2}{\sqrt{a^2 - y^2}} dy \end{aligned}$$

$\int \frac{a}{\sqrt{1 - (\frac{y}{a})^2}} dy = a^2 \arcsin\left(\frac{y}{a}\right)$

$$\int dy \sqrt{a^2 - y^2} = \frac{1}{2} y \sqrt{a^2 - y^2} + \frac{a^2}{2} \arcsin\left(\frac{y}{a}\right)$$

$$a = \sqrt{R^2 - x^2}$$

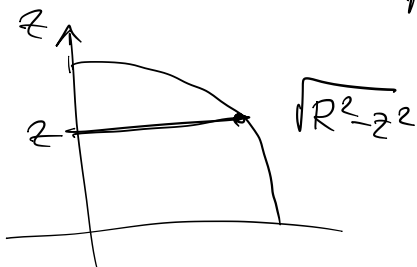
$$(**) = 4 \int_0^R dx \left(y \sqrt{R^2 - x^2 - y^2} + (R^2 - x^2) \arcsin \frac{y}{\sqrt{R^2 - x^2}} \right) \Bigg|_{y=0}^{y=\sqrt{R^2 - x^2}}$$

$$= 4 \int_0^R \frac{\pi}{2} (R^2 - x^2) dx = 2\pi \left(R^3 - \frac{R^3}{3} \right) = 2\pi \cdot \frac{2}{3} R^3 = \frac{4}{3} \pi R^3$$

Altro metodo: usando il principio di Cavalieri. Fissato $z \in (0, R)$

considero l'insieme

$$A(z) = \{(x, y) : (x, y, z) \in B_R\} =$$



= cerchio di centro $(0, 0)$ e raggio $\sqrt{R^2 - z^2}$

$$\text{Vol } B_R = 2 \int_0^R dz (\text{area } A(z)) = 2 \int_0^R dz \pi (R^2 - z^2) =$$

$$= 2\pi \left(R^3 - \frac{R^3}{3} \right) = \frac{4}{3} \pi R^3.$$

BARICENTRO DI DOMINI PIANI

D dominio normale

$\mu(x,y)$ = densità superficiale della lastra.

Baricentro di $D = B(x_B, y_B)$

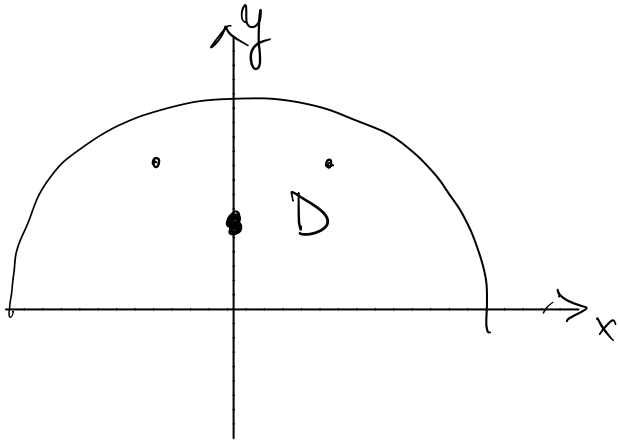
$$x_B = \frac{1}{m(D)} \iint_D x \mu(x,y) dx dy = \frac{\iint_D x dx dy}{\text{area } D}$$

$\iint_D \mu(x,y) dx dy$ (in red)
 se μ è costante

$$y_B = \frac{\iint_D y \mu(x,y) dx dy}{\text{area } D}$$

BARICENTRO DI UN SEMICERCHIO (Sottinteso: $\mu = \text{cost}$).

BARICENTRO DI UN SEMICERCHIO (Sottinteso: $\rho = \text{cost}$).



$$D = \{(x,y): y \geq 0, x^2 + y^2 \leq R^2\}$$

$$x_B = \frac{2}{\pi R^2} \iint_D x \, dx \, dy = 0$$

$$\begin{aligned} y_B &= \frac{2}{\pi R^2} \iint_D y \, dx \, dy = \frac{2}{\pi R^2} \int_0^R dx \int_0^{\sqrt{R^2-x^2}} dy \, y = \frac{2}{\pi R^2} \int_0^R dx (R^2 - x^2) = \\ &= \frac{2}{\pi R^2} \frac{2}{3} R^3 = \frac{4}{3\pi} R \end{aligned}$$