

1. Studiare la funzione

$$f(x) = \ln \left(\frac{x^2}{(2x-3)^4} \right),$$

e in particolare: dominio, eventuali simmetrie, insiemi di continuità e di derivabilità, limiti significativi, asintoti; crescita e decrescenza, estremi relativi e assoluti, eventuali punti di non derivabilità; concavità, convessità, flessi. Disegnare un grafico qualitativo di $f(x)$.

Domínio: $\mathbb{R} \setminus \left\{ 0, \frac{3}{2} \right\}$

La funzione è derivabile, quindi continua, nel suo dominio.
Non sono presenti simmetrie evidenti.

Limiti significativi e asintoti

$$\lim_{x \rightarrow \pm\infty} f(x) = (\ln 0^+) = -\infty$$

$$\lim_{x \rightarrow 0} f(x) = (\ln 0^+) = -\infty \quad x=0 \text{ asintoto verticale}$$

$$\lim_{x \rightarrow 3/2} f(x) = (\ln(+\infty)) = +\infty. \quad x = \frac{3}{2} \text{ asintoto verticale}$$

$$\lim_{x \rightarrow \pm\infty} \frac{f(x)}{x} = \lim_{x \rightarrow \pm\infty} \frac{2 \ln|x| - 4 \ln|2x-3|}{x} = 0$$

\Rightarrow non ammette asintoti obliqui.

Derivata prima e monotonia

$$f'(x) = D(2 \ln|x| - 4 \ln|2x-3|) = \frac{2}{x} - \frac{8}{2x-3} =$$

$$= \frac{2[2x-3-4x]}{x(2x-3)} = -\frac{2(2x+3)}{x(2x-3)}$$

$$f'(x) = 0 \iff x = -\frac{3}{2}$$

$$f'(x) > 0 \iff x \in \left(-\infty, -\frac{3}{2}\right) \cup \left(0, \frac{3}{2}\right)$$

$$f'(x) < 0 \iff x \in \left(-\frac{3}{2}, 0\right) \cup \left(\frac{3}{2}, +\infty\right)$$

Quindi:

f strettamente crescente in $\left(-\infty, -\frac{3}{2}\right]$ e in $\left(0, \frac{3}{2}\right)$

f strettamente decrescente in $\left[-\frac{3}{2}, 0\right)$ e in $\left(\frac{3}{2}, +\infty\right)$.

$x = -\frac{3}{2}$ è punto di massimo relativo.

Derivata seconda, e concavità/convessità

$$\begin{aligned} f''(x) &= 2 \, D \left(\frac{1}{x} - \frac{4}{2x-3} \right) = 2 \left(-\frac{1}{x^2} + \frac{8}{(2x-3)^2} \right) = \\ &= \frac{2(8x^2 - (2x-3)^2)}{x^2(2x-3)^2} = \frac{2(4x^2 + 12x - 9)}{x^2(2x-3)^2} \end{aligned}$$

$$f''(x) = 0 \iff x = \frac{-3 \pm 3\sqrt{2}}{2}$$

$$\begin{aligned} f''(x) > 0 \iff x \in \left(-\infty, \frac{-3-3\sqrt{2}}{2}\right) \cup \left(\frac{-3+3\sqrt{2}}{2}, \frac{3}{2}\right) \cup \\ \cup \left(\frac{3}{2}, +\infty\right) \end{aligned}$$

$$f''(x) < 0 \iff x \in \left(\frac{-3-3\sqrt{2}}{2}, 0\right) \cup \left(0, \frac{-3+3\sqrt{2}}{2}\right)$$

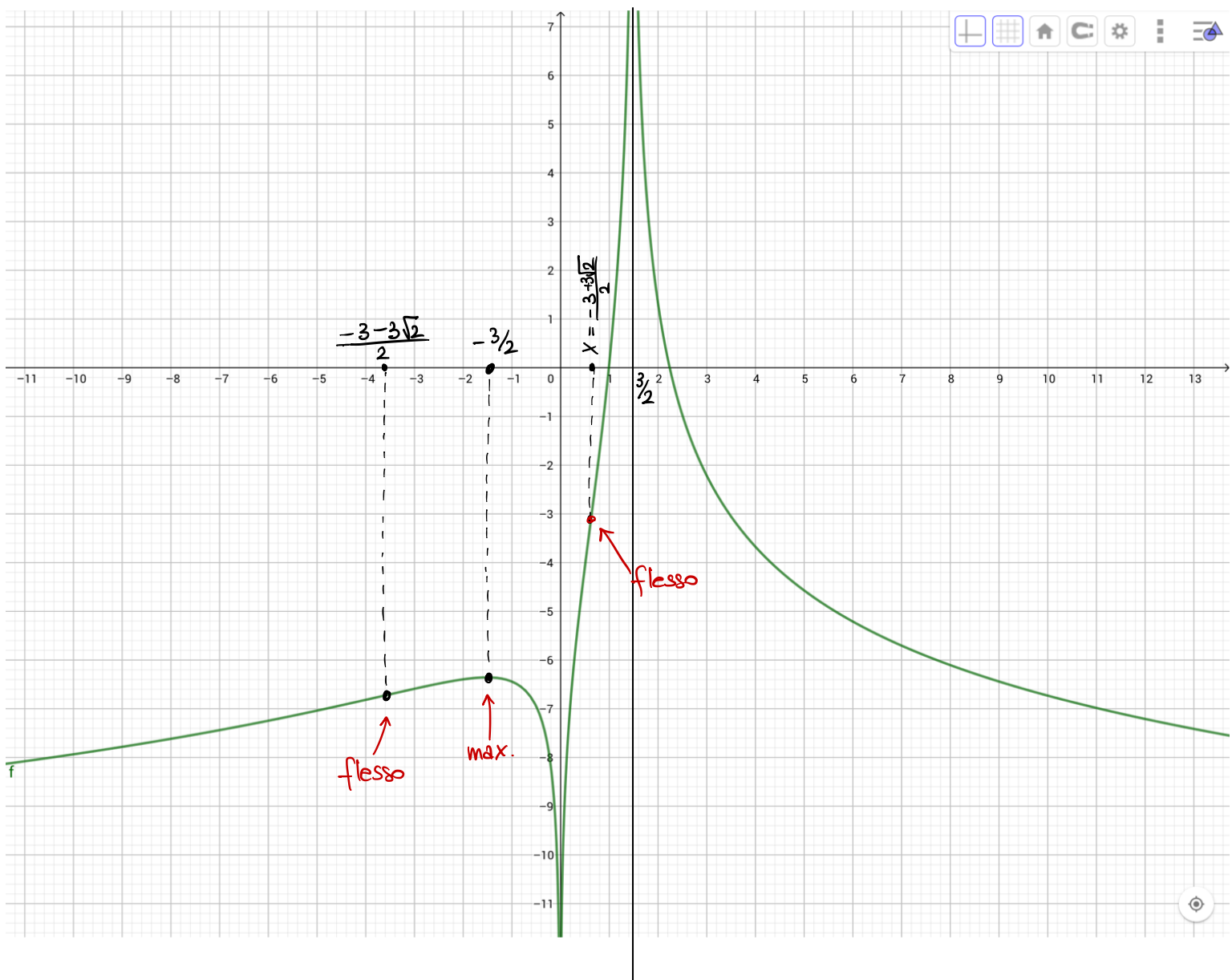
Quindi:

f è strettamente convessa in $(-\infty, \frac{-3-3\sqrt{2}}{2}]$,
in $[\frac{-3+3\sqrt{2}}{2}, \frac{3}{2})$ e in $(\frac{3}{2}, +\infty)$.

f è strettamente concava in $[\frac{-3-3\sqrt{2}}{2}, 0)$ e in
 $(0, \frac{-3+3\sqrt{2}}{2}]$.

I pts $x = \frac{-3 \pm 3\sqrt{2}}{2}$ sono punti di flesso.

Il grafico qualitativo è il seguente:



2. a) Calcolare $\int x^2 \sqrt{16+x^6} dx$.

b) Calcolare l'area dell'insieme $D = \{(x, y) \in \mathbb{R}^2 : |x| \leq 1, |y| \leq x^2 \sqrt{16+x^6}\}$.

Sostituzione $x^3 = t \Rightarrow 3x^2 dx = dt$

$$\int x^2 \sqrt{16+x^6} dx = \frac{1}{3} \int \sqrt{16+t^2} dt$$

Per parti:

$$\int \sqrt{16+t^2} dt = t \sqrt{16+t^2} - \int \frac{t^2}{\sqrt{16+t^2}} dt =$$

$$= t \sqrt{16+t^2} - \int \frac{(t^2+16)-16}{\sqrt{16+t^2}} dt =$$

$$= t \sqrt{16+t^2} - \underbrace{\int \sqrt{16+t^2} dt}_{\text{parte a 1° membro}} + \int \frac{16 dt}{\sqrt{16+t^2}}$$

$$2 \int \sqrt{16+t^2} dt = t \sqrt{16+t^2} + 4 \int \frac{dt}{\sqrt{1 + \left(\frac{t}{4}\right)^2}} =$$

$$= t \sqrt{16+t^2} + 16 \operatorname{arctanh}\left(\frac{t}{4}\right)$$

Quindi il nostro integrale vale:

$$\frac{1}{6} t \sqrt{16+t^2} + \frac{8}{3} \ln \left(\frac{t}{4} + \sqrt{1 + \frac{t^2}{16}} \right) + C$$

$$= \frac{1}{6} t \sqrt{16+t^2} + \frac{8}{3} \ln (t + \sqrt{16+t^2}) + C_1$$

$$= \frac{1}{6} x^3 \sqrt{16+x^6} + \frac{8}{3} \ln (x^3 + \sqrt{16+x^6}) + C_1$$

In alternativa:

$$\int \sqrt{16+t^2} dt =$$

$$\left[\begin{array}{l} \text{ sost } t = 4 \operatorname{sh} s \\ dt = 4 \operatorname{ch} s ds \\ s = \operatorname{setth} \frac{t}{4} \end{array} \right]$$

$$= \int \sqrt{16+16 \operatorname{sh}^2 s} \cdot 4 \operatorname{ch} s ds = 16 \int \operatorname{ch}^2 s ds$$

$$\int \operatorname{ch}^2 s ds = [\text{per parti}] = \operatorname{sh} s \operatorname{ch} s - \int \operatorname{sh}^2 s ds =$$

$$= \operatorname{sh} s \operatorname{ch} s - \int (\operatorname{ch}^2 s - 1) ds$$

e quindi $\int \operatorname{ch}^2 s ds = \frac{1}{2} (\operatorname{sh} s \operatorname{ch} s + s) + c$

Quindi

$$\int \sqrt{16+t^2} dt = 8 \left(\operatorname{sh} s \operatorname{ch} s + s \right) \Big|_{s = \operatorname{setth} \frac{t}{4}} =$$

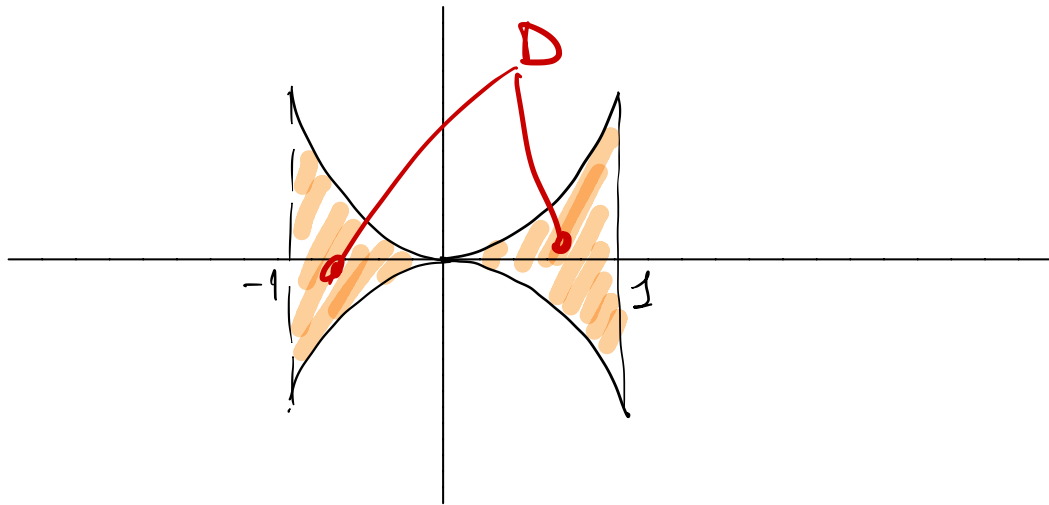
$$\left[\Rightarrow \operatorname{sh} s = \frac{t}{4}, \operatorname{ch} s = \sqrt{1 + \operatorname{sh}^2 s} = \sqrt{1 + \frac{t^2}{16}} \right]$$

$$= 8 \left(\frac{t}{4} \sqrt{1 + \frac{t^2}{16}} + \operatorname{setth} \frac{t}{4} \right) + c$$

$$= \frac{1}{2} t \sqrt{16+t^2} + 8 \operatorname{setth} \frac{t}{4} + c \quad (\text{in accordo con quanto trovato prima}).$$

b) la funzione $f(x) = x^2 \sqrt{16+x^6}$ è pari e crescente per $x \geq 0$.

L'insieme D è così fatto:



Quindi, per simmetria, la sua area vale

$$\text{Area } D = 4 \int_0^1 x^2 \sqrt{16+x^6} dx =$$

$$= \frac{1}{6} \sqrt{17} + \frac{8}{3} \ln(1 + \sqrt{17})$$

3. Risolvere ciascuna delle seguenti equazioni e disegnarne le soluzioni nel piano complesso

$$z^2 - 2iz - |z|^2 = 3 \operatorname{Re}(z), \quad \left(\frac{w-i}{w}\right)^4 + 4 = 0.$$

$$z^2 - 2iz - |z|^2 = 3 \operatorname{Re}(z) \quad \text{Poniamo } z = x + iy, (x, y \in \mathbb{R})$$

$$(x + iy)^2 - 2i(x + iy) - x^2 - y^2 = 3x$$

$$\cancel{x^2} - y^2 + 2ixy - 2ix + 2y - \cancel{x^2} - y^2 = 3x$$

Considerando separatamente la parte reale e la parte immaginaria si ottiene un sistema

$$\begin{cases} 2y - 2y^2 = 3x \\ xy - x = 0 \end{cases} \begin{matrix} \nearrow x = 0 \\ \searrow y = 1 \end{matrix}$$

$$1) \begin{cases} x = 0 \\ y^2 - y = 0 \end{cases} \begin{matrix} \nearrow y = 0 \\ \searrow y = 1 \end{matrix}$$

$$\text{Sol}^{\text{ni}} \boxed{z_1 = 0, z_2 = i}$$

$$2) y = 1 \Rightarrow x = 0 \quad \text{già considerata.}$$

$$\left(\frac{w-i}{w}\right)^4 + 4 = 0 \quad \text{Poniamo } z = \frac{w-i}{w}$$

$$\Rightarrow z^4 = -4 \quad \text{cerco le radici quarte di } -4$$

$$-4 = 4e^{i\pi}$$

$$z_k = \sqrt[4]{4} e^{i\theta_k} = \sqrt{2} e^{i\theta_k}$$

$$\text{dove } \theta_k = \frac{\pi + 2k\pi}{4} = \frac{\pi}{4} + \frac{k\pi}{2} \quad k=0, 1, 2, 3$$

$$z_0 = \sqrt{2} e^{i\frac{\pi}{4}} = 1+i$$

$$z_1 = \sqrt{2} e^{i\frac{3\pi}{4}} = -1+i$$

$$z_2 = \sqrt{2} e^{i\frac{5\pi}{4}} = -1-i$$

$$z_3 = \sqrt{2} e^{i\frac{7\pi}{4}} = 1-i$$

Ora devo trovare i corrispondenti w

$$\frac{w-i}{w} = z \Rightarrow w-i = zw \Rightarrow w(1-z) = i$$

$$\Rightarrow w = \frac{i}{1-z}$$

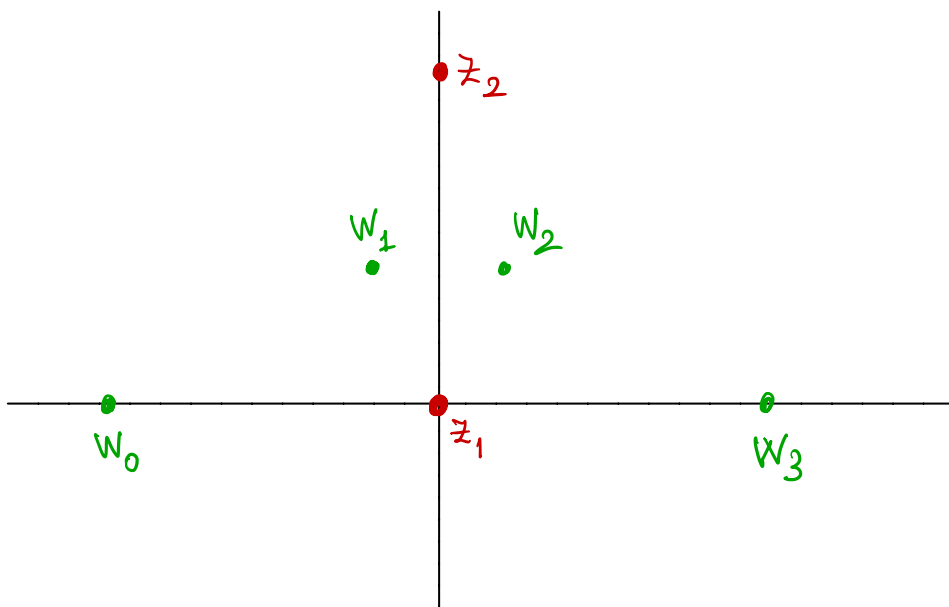
$$w_0 = \frac{i}{1-z_0} = \frac{i}{-i} = -1$$

$$w_1 = \frac{i}{1-z_1} = \frac{i}{2-i} = \frac{i(2+i)}{5} = \frac{-1+2i}{5}$$

$$w_2 = \frac{i}{1-z_2} = \frac{i}{2+i} = \frac{i(2-i)}{5} = \frac{1+2i}{5}$$

$$w_3 = \frac{i}{1-z_3} = \frac{i}{i} = 1.$$

Disegno tutti i numeri trovati:



4. Calcolare l'ordine di infinito/infinitesimo delle seguenti funzioni:

$$f(x) = \frac{\arctg x}{x^3 + 5 \sin^2 x} \quad (\text{per } x \rightarrow 0^+ \text{ e } x \rightarrow +\infty), \quad g(x) = x^2 - 3x^4 \ln x \quad (\text{per } x \rightarrow 0^+),$$

$$h(x) = \frac{3}{x^2} + \sin \frac{\alpha}{x^2} + \frac{\beta}{x^6} \quad (\text{per } x \rightarrow +\infty, \text{ al variare di } \alpha, \beta \in \mathbb{R}).$$

Per $x \rightarrow 0^+$ si ha: $\arctg x \sim x$

$$x^3 + 5 \sin^2 x = x^2 \left(x + 5 \frac{\sin^2 x}{x^2} \right) \sim 5x^2$$

\downarrow
5

Quindi $f(x) = \frac{\arctg x}{x^3 + 5 \sin^2 x} \sim \frac{x}{5x^2} = \frac{1}{5x}$

Infinite di ordine 1

per $x \rightarrow +\infty$ $\arctg x \rightarrow \frac{\pi}{2}$.

$$x^3 + 5 \sin^2 x = x^3 \left(1 + \frac{5 \sin^2 x}{x^3} \right) \sim x^3$$

\downarrow
0

Quindi $f(x) \sim \frac{\pi}{2x^3}$: infinitesimo di ordine 3.

Per $x \rightarrow 0^+$ si ha:

$$g(x) = x^2 - 3x^4 \ln x = x^2 \left(1 - \underbrace{3x^2 \ln x}_{\downarrow 0} \right) \sim x^2$$

Infinitesimo di ordine 2

Infine, per $x \rightarrow +\infty$,

$$h(x) = \frac{3}{x^2} + \sin \frac{\alpha}{x^2} + \frac{\beta}{x^6} = \text{[Taylor]}$$
$$= \frac{3}{x^2} + \left(\frac{\alpha}{x^2} - \frac{\alpha^3}{6x^6} + \frac{\alpha^5}{120x^{10}} + o\left(\frac{1}{x^{10}}\right) \right) + \frac{\beta}{x^6} =$$

$$= \frac{3 + \alpha}{x^2} + \frac{\beta - \frac{\alpha^3}{6}}{x^6} + \frac{\alpha^5}{120 x^{10}} + o\left(\frac{1}{x^{10}}\right)$$

Quindi :

$$\text{se } \begin{pmatrix} \alpha \neq -3 \\ \beta \text{ qualsiasi} \end{pmatrix}, h(x) \sim \frac{3 + \alpha}{x^2} \text{ infinitesimo di ordine 2}$$

$$\text{se } \begin{pmatrix} \alpha = -3 \\ \beta \neq \frac{9}{2} \end{pmatrix} h(x) \sim \frac{\beta - \frac{9}{2}}{x^6} \text{ infinitesimo di ordine 6}$$

$$\text{se } \begin{pmatrix} \alpha = -3 \\ \beta = \frac{9}{2} \end{pmatrix} h(x) \sim -\frac{81}{40 x^{10}} \text{ infinitesimo di ordine 10}$$

5. Data la funzione

$$f(x) = \sqrt[3]{x^2 + a} + bx - \arctg(x^2),$$

trovare tutte le coppie $(a, b) \in \mathbb{R}^2$ (se esistono) che rendano vera (separatamente) ciascuna delle seguenti condizioni:

- i) f è derivabile in \mathbb{R} ;
- ii) esistono due punti distinti in cui f non è derivabile;
- iii) f è definitivamente crescente per $x \rightarrow +\infty$;
- iv) f ammette minimo relativo in $x_0 = 0$.

i e ii) Gli unici problemi di derivabilità sono per $x^2 + a = 0$.

Quindi: se $a > 0$ f è derivabile in tutto \mathbb{R} .

se $a = 0$, $f(x) = x^{2/3} + bx - \arctg(x^2)$.

Studio la derivabilità in $x = 0$.

$$\begin{aligned} f'_+(0) &= \lim_{h \rightarrow 0^+} \frac{f(h) - f(0)}{h} = \lim_{h \rightarrow 0^+} \frac{h^{2/3} - bh - \arctg h^2}{h} = \\ &= \lim_{h \rightarrow 0^+} \frac{h^{2/3}}{h} = +\infty. \end{aligned}$$

Quindi f non è derivabile in $x = 0$.

Se $a < 0$, allora ci sono problemi di derivabilità in $x = \pm \sqrt{-a}$. In tal caso per calcolare la derivata può essere conveniente (visto che f è continua), calcolare

$$\begin{aligned} f'_+(\sqrt{-a}) &= \lim_{x \rightarrow (\sqrt{-a})^+} f'(x) = \\ &= \lim_{x \rightarrow (\sqrt{-a})^+} \left(\underbrace{\frac{2x}{3(x^2 - a)^{2/3}}}_{+\infty} - b - \underbrace{\frac{2x}{1+x^4}}_{\frac{2\sqrt{a}}{1+a^2}} \right) = +\infty \end{aligned}$$

e quindi f non è derivabile in $x = \sqrt{-a}$
Similmente in $x = -\sqrt{-a}$

Restano da studiare i casi $a = \pm 1$, $a = 0$

$$\text{Se } a = 1, \quad f(x) = (x^2 + 1)^{1/3} - \arctan(x^2)$$

Pongo $x^2 = t \in [0, +\infty)$, ottengo

$$g(t) = (t + 1)^{1/3} - \arctan t$$

$$g'(0) = \frac{1}{3} - 1 = -\frac{2}{3}$$

quindi per t piccolo t è decrescente. \Rightarrow per x piccolo $f(x) < f(0) \Rightarrow$ max. rel. stretto.

Similmente per $a = -1$, in tal caso $g'(0) = -\frac{4}{3} < 0$.

Per $a = 0$, $f(x) = x^{2/3} - \arctan x^2 \sim x^{2/3}$ per $x \rightarrow 0$

Quindi per x piccolo si ha $f(x) > 0 = f(x)$.

\Rightarrow min. relativo.

Risposta a iv): $-1 < a < 1, b = 0$