

Domani mercoledì 6 giugno, e mercoledì 13 giugno:

• Lezione ore 9:00 → 10:00

• Esercitazione facoltativa ore 10:00 → 11:00

} Aula II
(qui!)

$$\underline{F}(x,y) = (F_1(x,y), F_2(x,y)) : A \subset \mathbb{R}^2 \rightarrow \mathbb{R}^2$$

campo vettoriale C^1 .

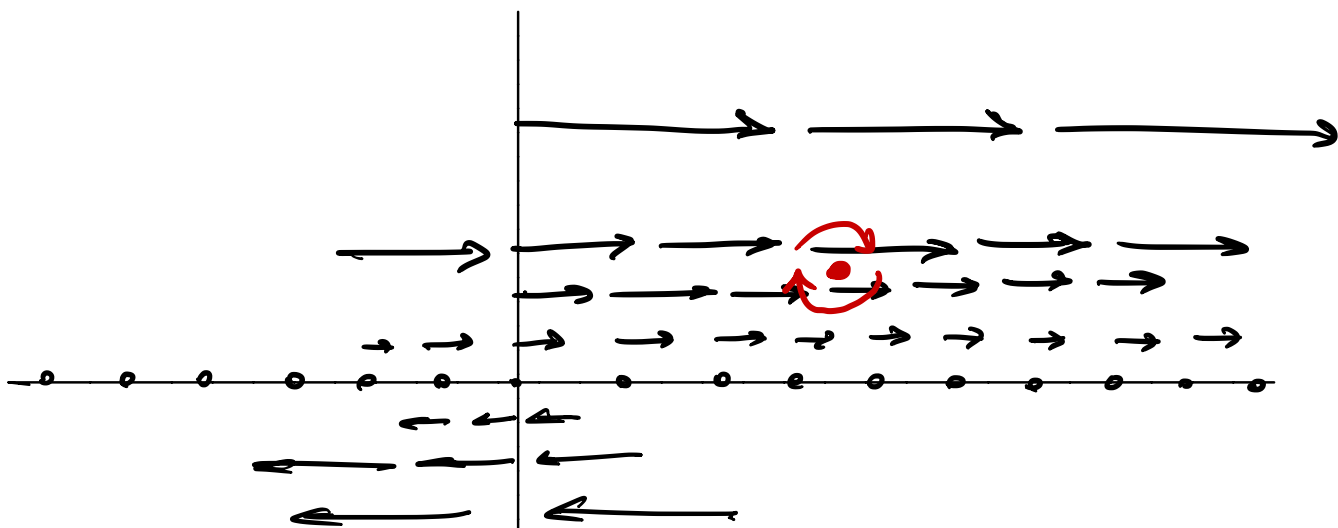
$$\text{rot } \underline{F} = (F_2)_x - (F_1)_y : A \rightarrow \mathbb{R}$$

Il campo \underline{F} è irrotazionale se $\text{rot } \underline{F} \equiv 0$ in A

Come si interpreta?

Immagino che \underline{F} descriva le velocità di un fluido nel piano. Il rotore di \underline{F} in un punto descrive come ruota una piccola trottola tenuta ferma in (x,y) sotto gli effetti del campo.

Esempio $A = \mathbb{R}^2$ $\underline{F}(x,y) = (y, 0)$



Il rotore misura come ruota la trottola sotto gli effetti del campo.

$$\text{rot } \underline{F} = -1 \quad \forall (x,y) \in \mathbb{R}^2.$$

In \mathbb{R}^3 è un po' diverso

$$\underline{F}(x, y, z) = (F_1(x, y, z), F_2(x, y, z), F_3(x, y, z)) : A \subset \mathbb{R}^3 \rightarrow \mathbb{R}^3$$

$$\text{rot } \underline{F} = \nabla \wedge \underline{F} = \det \begin{bmatrix} \underline{i} & \underline{j} & \underline{k} \\ \partial_x & \partial_y & \partial_z \\ F_1 & F_2 & F_3 \end{bmatrix} =$$

↑
prodotto vettoriale

← *←* *←*
vettori degli assi

$$= ((F_3)_y - (F_2)_z, (F_1)_z - (F_3)_x, (F_2)_x - (F_1)_y)$$

Il campo è irrotazionale se $\text{rot } \underline{F} \equiv 0$ in A ,

cioè

$$\begin{cases} (F_3)_y \equiv (F_2)_z \\ (F_1)_z \equiv (F_3)_x \\ (F_2)_x \equiv (F_1)_y \end{cases}$$

In \mathbb{R}^3 il rotore descrive l'asse di rotazione di una pallina che ruota sotto l'effetto del campo.

La def. in \mathbb{R}^2 "segue" da quella di \mathbb{R}^3 :

$$\text{se } \underline{F}(x, y, z) = (F_1(x, y), F_2(x, y), 0)$$

$$\text{rot } \underline{F} = (0, 0, (F_2)_x - (F_1)_y)$$

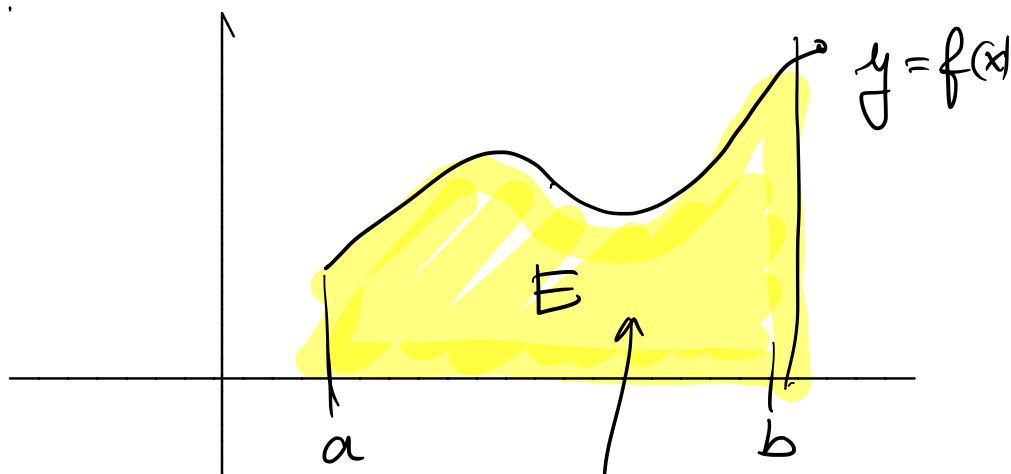
Integrali doppi:

In dim 1. $f: [a, b] \rightarrow \mathbb{R}$ continua

Per semplicità $f(x) \geq 0$.

Non scrivo la def^{ne} di integrale di Riemann,
ma rappresento:

1) se $f \geq 0$

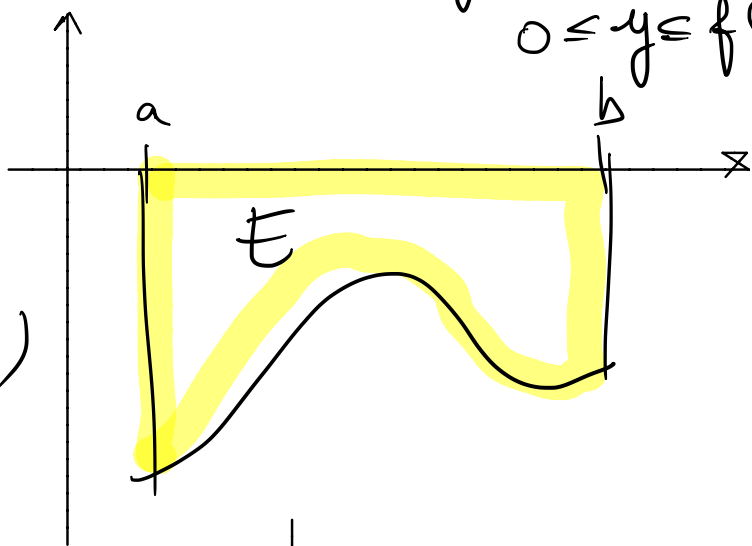


$$\int_a^b f(x) dx = \text{area}(E)$$

$$E = \{(x, y) : a \leq x \leq b, 0 \leq y \leq f(x)\}$$

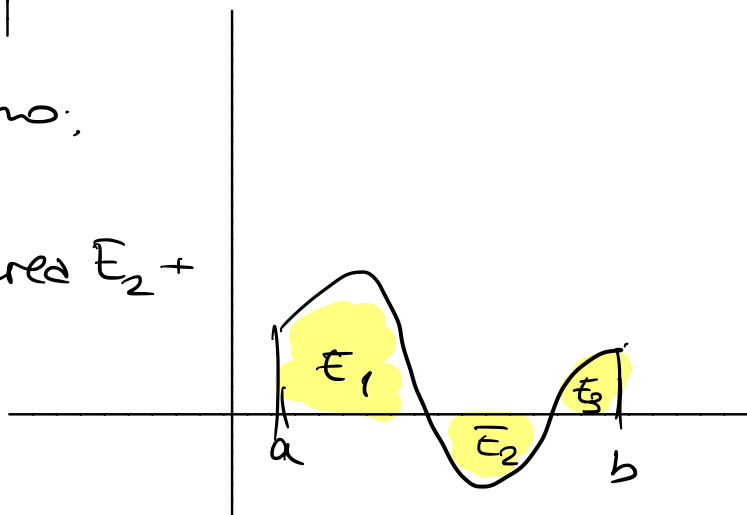
2) se $f \leq 0$

$$\int_a^b f(x) dx = -\text{area}(E)$$



3) se f cambia segno:

$$\int_a^b f(x) dx = \text{area } E_1 - \text{area } E_2 + \text{area } E_3$$

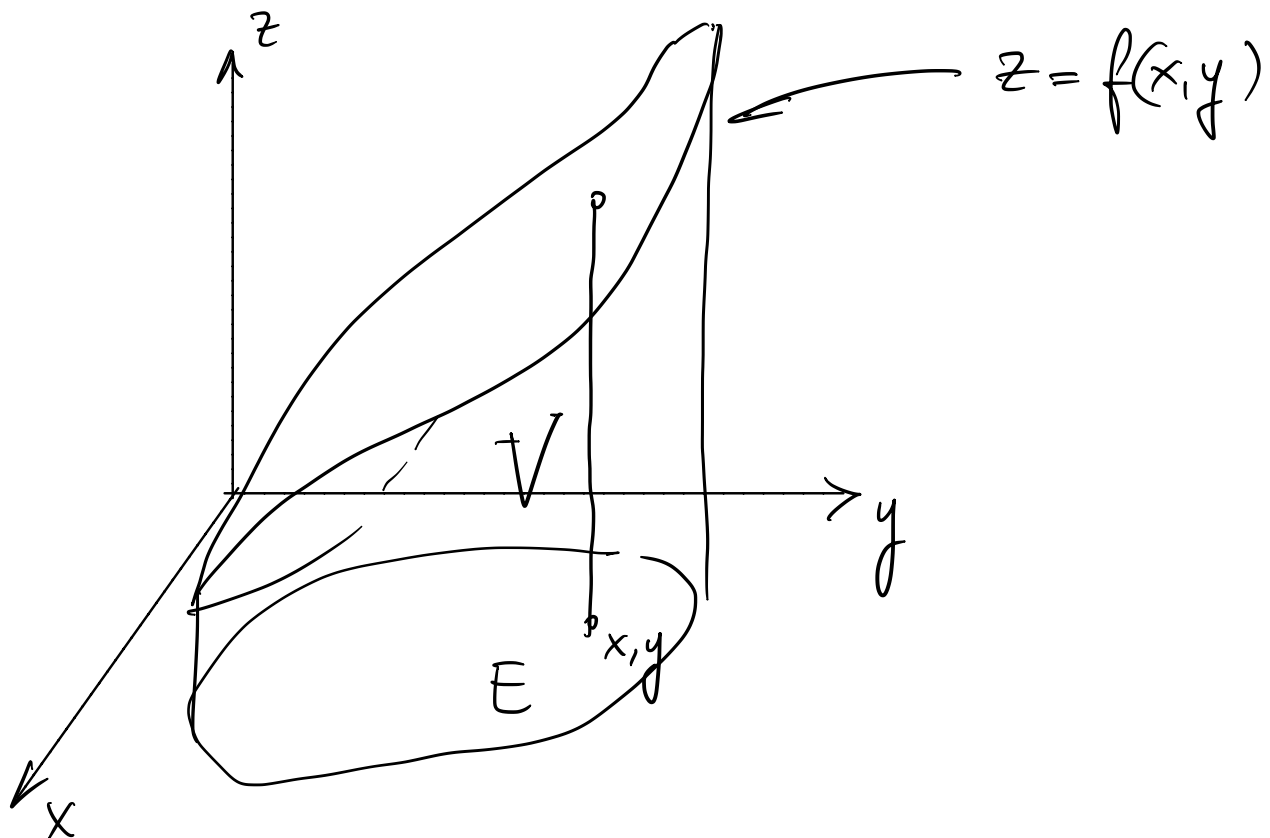


Idea dell' integrale doppio:

$E \subset \mathbb{R}^2$ $f(x,y): E \rightarrow \mathbb{R}$ continua.

↑ fatto come?

Per semplicità prendiamo $f(x,y) \geq 0$.



Voglio definire $\iint_E f(x,y) dx dy$ in modo

che misuri il volume dell'insieme tridimensionale.

$$V = \{(x,y,z) : (x,y) \in E, \quad 0 \leq z \leq f(x,y)\}.$$

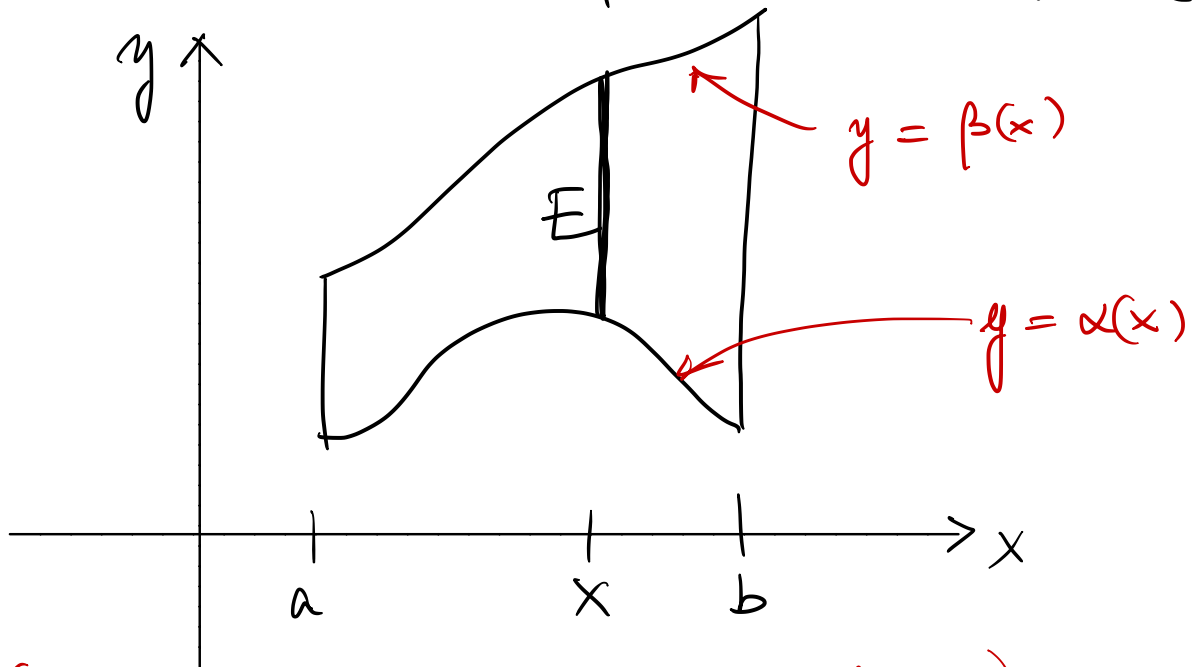
Un tale numero si può calcolare come descritto nella pagina successiva.

1° problema: come deve essere fatto $E \subset \mathbb{R}^2$

E deve essere un insieme della forma

$$E = \{(x, y) : a \leq x \leq b, \alpha(x) \leq y \leq \beta(x)\}$$

dove $\alpha, \beta : [a, b] \rightarrow \mathbb{R}$ continue e
t.c. $\alpha(x) \leq \beta(x) \quad \forall x \in [a, b]$,



(dominio normale rispetto alle x)

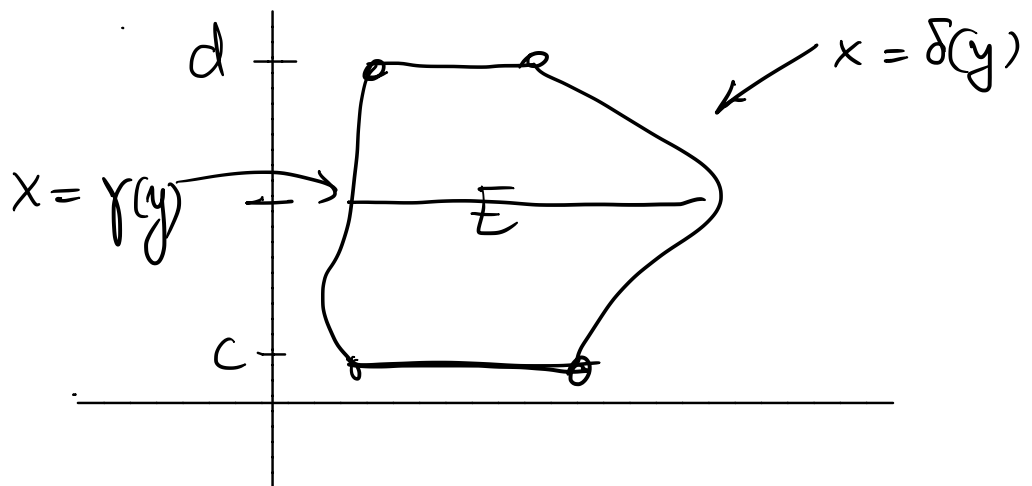
ovviamente $\text{area } E = \int_a^b (\beta(x) - \alpha(x)) dx$

Oppure

$$E = \{(x, y) : c \leq y \leq d, \gamma(y) \leq x \leq \delta(y)\}$$

con $\gamma(y), \delta(y) : [c, d] \rightarrow \mathbb{R}$ continue e t.c.

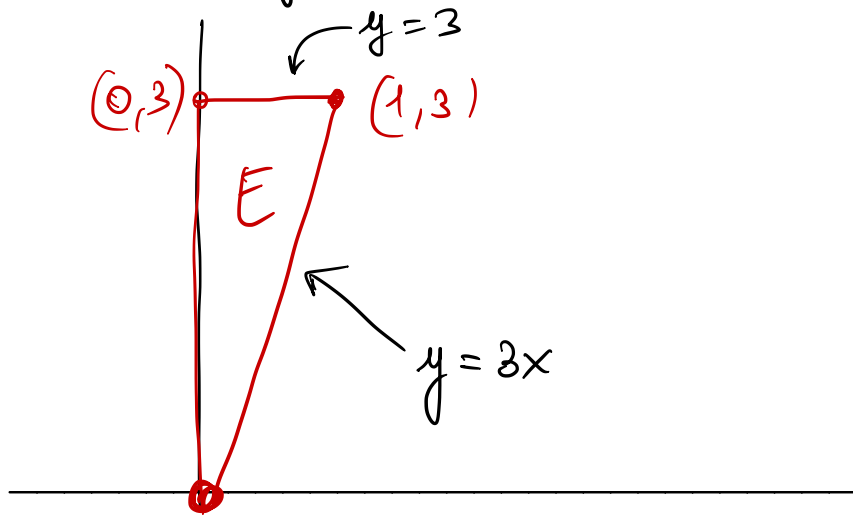
$$\gamma(y) \leq \delta(y) \quad \forall y \in [c, d].$$



dominio normale rispetto alla y .

$$\text{Area } E = \int_c^d (\delta(y) - \gamma(y)) dy$$

Esempio: triangolo ^{pieno} di vertici $(0,0)$, $(1,3)$, $(0,3)$



E è un insieme x -normale. $\left[\text{Area } E = \int_0^1 (3-3x) dx = 3 - \frac{3}{2} = \frac{3}{2} \right]$

$$E = \{ (x,y) : 0 \leq x \leq 1, 3x \leq y \leq 3 \}$$

ma è anche y -normale

$$E = \{ (x,y) : 0 \leq y \leq 3, 0 \leq x \leq \frac{y}{3} \}$$

$$\text{Area } E = \int_0^3 \frac{y}{3} dy = \frac{1}{2} \cdot \frac{1}{3} \cdot 9 = \frac{3}{2}$$

~~$$E = \{ (x,y) : 0 \leq y \leq 3, 0 \leq x \leq 1 \}$$~~

Sia E un dominio x -normale come sopra

$$E = \{(x, y) : a \leq x \leq b, \alpha(x) \leq y \leq \beta(x)\}$$

Sia $f(x, y) : E \rightarrow \mathbb{R}$ continua: definiamo

$$\iint_E f(x, y) dx dy = \int_a^b \left(\int_{\alpha(x)}^{\beta(x)} f(x, y) dy \right) dx$$

Se E è un dominio y -normale

$$E = \{(x, y) : c \leq y \leq d, \gamma(y) \leq x \leq \delta(y)\}$$

Allora

$$\iint_E f(x, y) dx dy = \int_c^d \left(\int_{\gamma(y)}^{\delta(y)} f(x, y) dx \right) dy$$

Ovviamente (è un teorema!) se E è sia x -normale che y -normale, i due risultati coincidono.

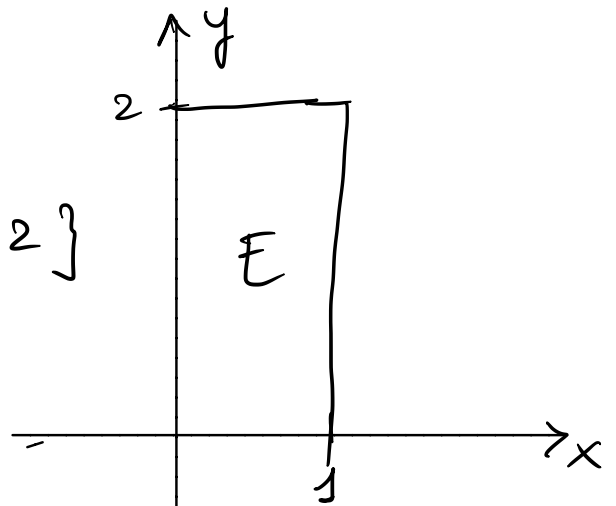
Calcolare

$$\iint_E \frac{x}{1+y} dx dy$$

$f(x,y)$

dove $E = [0,1] \times [0,2]$

$$E = \{(x,y) : 0 \leq x \leq 1, 0 \leq y \leq 2\}$$



$$\iint_E \frac{x}{1+y} dx dy = \int_0^1 dx \left(\int_0^2 \frac{x}{1+y} dy \right) =$$

$$= \int_0^1 dx \times \left(\int_0^2 \frac{dy}{1+y} \right) = \int_0^1 dx \times \ln(1+y) \Big|_{y=0}^{y=2}$$

$$= \int_0^1 dx \times (\ln 3 - \ln 1) = \frac{\ln 3}{2}$$

$\frac{1}{2}$

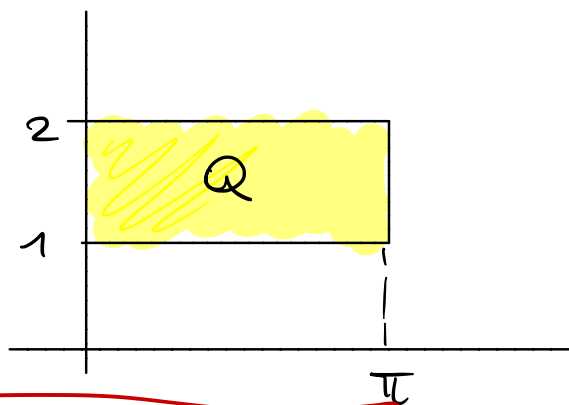
Allo stesso risultato si perviene se si considera come dominio y -normale

$$\iint_E \frac{x}{1+y} dx dy = \int_0^2 dy \left(\int_0^1 dx \frac{x}{1+y} \right) = \dots = \frac{\ln 3}{2}$$

$$\iint_Q xy \cos(xy^2) dx dy, \quad Q = [0, \pi] \times [1, 2].$$

||

$$\int_0^\pi dx \left(\int_1^2 dy \frac{2xy}{2} \cos(xy^2) \right) =$$



$$= \frac{1}{2} \int_0^\pi dx \left(\int_x^{4x} dt \cos t \right) =$$

$\begin{aligned} \text{so set } xy^2 &= t \\ 2xy dy &= dt \end{aligned}$

$$= \frac{1}{2} \int_0^\pi dx \left. \sin t \right|_{t=x}^{t=4x} = \frac{1}{2} \int_0^\pi dx (\sin(4x) - \sin x) =$$

$$= \frac{1}{2} \left(-\frac{1}{4} \cos(4x) + \cos x \right) \Big|_0^\pi =$$

$$= \frac{1}{2} \left(-\frac{1}{4} \cos(4\pi) + \frac{1}{4} \cos 0 + \cos \pi - \cos 0 \right) = -1$$

Cambiando l'ordine di integrazione

$$\int_1^2 dy \left(\int_0^\pi dx \quad xy \cos(xy^2) \right) = (*)$$

$$\int x \cos(xy^2) dx = \frac{x}{y^2} \operatorname{sen}(xy^2) - \int \frac{\operatorname{sen}(xy^2)}{y^2} dx =$$

per parti

$$f(x) = x \quad f'(x) = 1$$

$$g'(x) = \cos(xy^2) \Rightarrow g(x) = \frac{1}{y^2} \operatorname{sen}(xy^2)$$

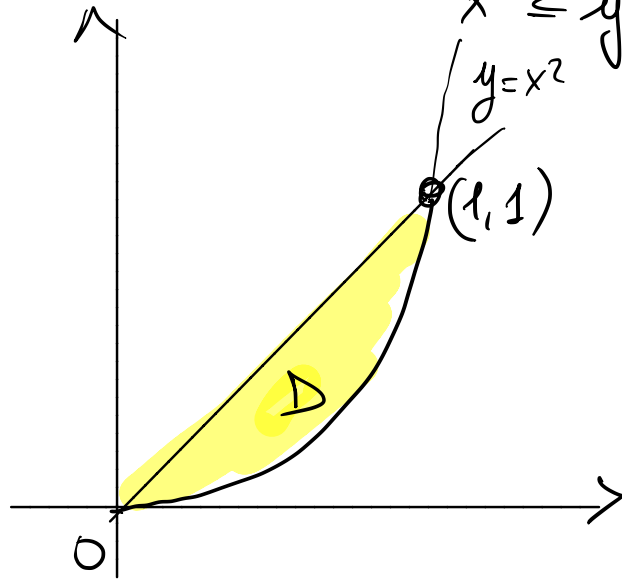
$$= \frac{x}{y^2} \operatorname{sen}(xy^2) + \frac{1}{y^4} \cos(xy^2)$$

$$(*) = \int_1^2 dy \quad y \left(\frac{x}{y^2} \operatorname{sen}(xy^2) + \frac{1}{y^4} \cos(xy^2) \right) \Big|_{x=0}^{x=\pi} =$$

$$= \int_1^2 dy \quad y \left(\frac{\pi}{y^2} \operatorname{sen}(\pi y^2) + \frac{1}{y^4} (\cos(\pi y^2) - 1) \right)$$

(corretto ma difficile)

$$\iint_D (2x+3y) \, dx \, dy = \int \text{dove } D = \{(x,y): 0 \leq x \leq 1, x^2 \leq y \leq x\}$$



$$= \int_0^1 dx \left(\int_{x^2}^x dy (2x+3y) \right) =$$

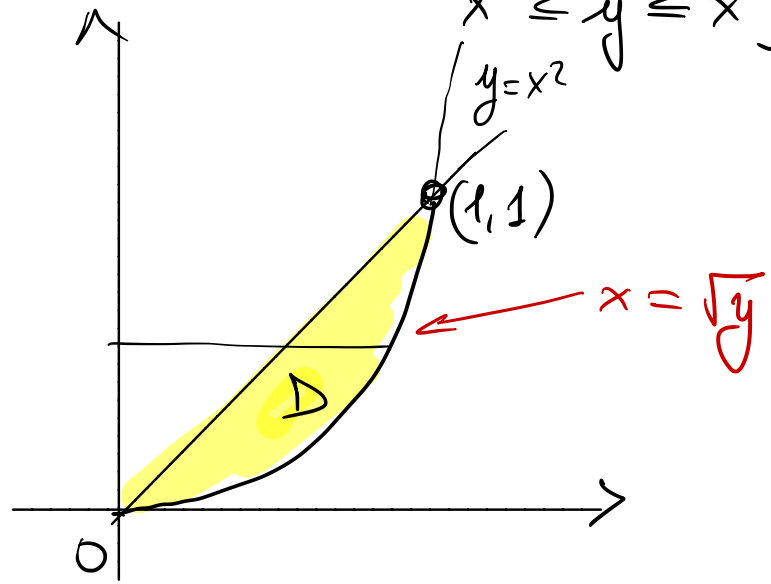
$$= \int_0^1 dx \left(2x(x-x^2) + \left(\frac{3y^2}{2} \right) \Big|_{y=x^2}^{y=x} \right) =$$

$$= \int_0^1 dx \left(2x^2 - 2x^3 + \frac{3}{2}x^2 - \frac{3}{2}x^4 \right) =$$

$$= \int_0^1 dx \left(-\frac{3}{2}x^4 - 2x^3 + \frac{7}{2}x^2 \right) =$$

$$= -\frac{3}{2} \cdot \frac{1}{5} - \frac{21}{12} + \frac{7}{6} = \frac{-9-15+35}{30} = \frac{11}{30}$$

$$\iint_D (2x+3y) \, dx \, dy = (*) \quad \text{dove } D = \{(x,y): 0 \leq x \leq 1, x^2 \leq y \leq x\}$$



ordine inverso:

$$D = \{(x,y): 0 \leq y \leq 1, y \leq x \leq \sqrt{y}\}$$

$$(*) = \int_0^1 dy \left(\int_y^{\sqrt{y}} dx (2x+3y) \right) =$$

$$= \int_0^1 dy \left(x^2 \Big|_{x=y}^{x=\sqrt{y}} + 3y(\sqrt{y}-y) \right) =$$

$$= \int_0^1 dy \left(y - y^2 + 3y^{3/2} - 3y^2 \right) =$$

$\xrightarrow{\quad} -4y^2$

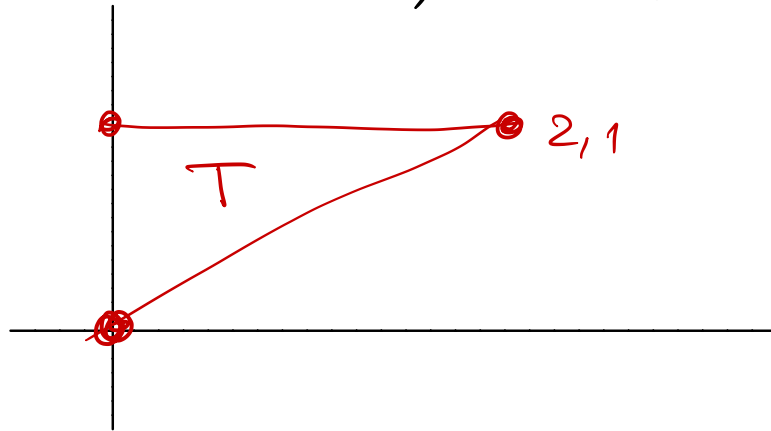
$$= \frac{1}{2} - \frac{4}{3} + 3 \cdot \frac{2}{5} = \frac{1}{2} - \frac{4}{3} + \frac{6}{5} = \frac{15 - 40 + 36}{30} =$$

$$= \frac{11}{30}$$

ESERCIZIO Calcolare

$$\iint_T e^{y^2} dx dy$$

dove T è il triangolo di vertici
 $(0,0)$, $(0,1)$, $(2,1)$



Farlo nei due ordini possibili; uno dei due
è molto più facile.