

**Scritto di Analisi Vettoriale (17.02.2016)**  
Proff. A. Dall'Aglio, F. Lanzara, E. Montefusco

**COGNOME e NOME:**

---

**MATRICOLA:**

---

**DOCENTE:**                     Dall'Aglio                     Lanzara                     Montefusco

---

**Se ammesso, sosterrò la prova teorica:**                     in questo appello                     in un appello successivo

---

**Istruzioni:** il testo d'esame deve essere riconsegnato insieme all'elaborato, tutti i ragionamenti devono essere adeguatamente spiegati!

**Esercizio 1.**      Data la successione di funzioni

$$\phi_n(x) = \frac{x(n^2 x^2 + 2)}{n^2 x^2 + 1} \quad \text{con } x \in \mathbb{R},$$

- i. calcolare il limite puntuale  $\phi_\infty(x)$ ,
- ii. determinare in quali intervalli  $\phi_n$  converge uniformemente a  $\phi_\infty$ .

**Esercizio 2.**      Data la funzione

$$f(x, y) = x^4 y - x y^4 + 5xy$$

- i. trovare e classificare tutti i punti critici della funzione,
- ii. trovare massimo e minimo assoluti della funzione nell'insieme  $T = \{x \leq 0 \leq y, x^3 - y^3 + 5 \geq 0\}$ .

**Esercizio 3.**      Dato il campo vettoriale  $\mathbf{F} = (yz, -xz, xy)$  calcolare

$$\int_S (\text{rot}(\mathbf{F}) \cdot \mathbf{n}) \, d\sigma,$$

dove  $S \subset \mathbb{R}^3$  è la parte della superficie sferica  $\{x^2 + y^2 + z^2 = 4\}$  compresa tra i piani  $\{z = 0\}$  e  $\{z = \sqrt{3}\}$ , dove  $\mathbf{n}$  indica l'usuale normale uscente dalla sfera.

**Esercizio 4.**      Sia  $D$  la regione del piano  $xy$  delimitata dall'asse  $x$  e dall'arco di curva di equazione polare  $\rho = 2 + \cos(\theta)$  con  $\theta \in [0, \pi]$ . Calcolare il volume del solido  $E$  ottenuto facendo ruotare  $D$  di un giro completo intorno all'asse  $x$ .

**Esercizio 5.**      Si consideri il problema di Cauchy

$$y'(t) = \frac{3 y^{1/3}(t) - y(t)}{1 + t^2}, \quad y(0) = y_0.$$

- i. Si assuma  $y_0 = 1$ . Dire se il problema ammette una o più soluzioni e, in caso, determinarle tutte.
- ii. Si assuma  $y_0 = 0$ . Dire se il problema ammette una o più soluzioni e, in caso, determinarle tutte.

**Scritto di Analisi Vettoriale (17.02.2016)**  
Proff. A. Dall'Aglio, F. Lanzara, E. Montefusco

**COGNOME e NOME:** \_\_\_\_\_

**MATRICOLA:** \_\_\_\_\_

**DOCENTE:**                     Dall'Aglio                     Lanzara                     Montefusco

**Se ammesso, sosterrò la prova teorica:**                     in questo appello                     in un appello successivo

**Istruzioni:** il testo d'esame deve essere riconsegnato insieme all'elaborato, tutti i ragionamenti devono essere adeguatamente spiegati!

**Esercizio 1.**      Si consideri il problema di Cauchy

$$y'(t) = \frac{3}{2} \frac{y^{1/3}(t) + y(t)}{1 + t^2}, \quad y(0) = y_0.$$

- i. Si assuma  $y_0 = -1$ . Dire se il problema ammette una o più soluzioni e, in caso, determinarle tutte.
- ii. Si assuma  $y_0 = 0$ . Dire se il problema ammette una o più soluzioni e, in caso, determinarle tutte.

**Esercizio 2.**      Data la successione di funzioni

$$\phi_n(x) = \frac{x(n^2 x^2 + 3)}{n^2 x^2 + 2} \quad \text{con } x \in \mathbb{R},$$

- i. calcolare il limite puntuale  $\phi_\infty(x)$ ,
- ii. determinare gli intervalli in cui  $\phi_n$  converge uniformemente a  $\phi_\infty$ .

**Esercizio 3.**      Sia  $D$  la regione del piano  $xy$  delimitata dall'asse  $x$  e dall'arco di curva di equazione polare  $\rho = 2 - \cos(\theta)$  con  $\theta \in [0, \pi]$ . Calcolare il volume del solido  $E$  ottenuto facendo ruotare  $D$  di un giro completo intorno all'asse  $x$ .

**Esercizio 4.**      Dato il campo vettoriale  $\mathbf{F} = (-yz, xz, xy)$  calcolare

$$\int_S (\text{rot}(\mathbf{F}) \cdot \mathbf{n}) \, d\sigma$$

dove  $S \subset \mathbb{R}^3$  è la parte della superficie sferica  $\{x^2 + y^2 + z^2 = 4\}$  compresa tra i piani  $\{z = -1\}$  e  $\{z = 0\}$ , dove  $\mathbf{n}$  indica l'usuale normale uscente dalla sfera.

**Esercizio 5.**      Data la funzione

$$f(x, y) = xy^4 + x^4y - 5xy$$

- i. trovare e classificare tutti i punti critici della funzione,
- ii. trovare massimo e minimo assoluti della funzione nell'insieme  $T = \{x \geq 0, y \geq 0, y^3 + x^3 - 5 \leq 0\}$ .

# FILA A - Esercizio 1.

**Esercizio 1.** Data la successione di funzioni

$$\phi_n(x) = \frac{x(n^2x^2 + 2)}{n^2x^2 + 1} \quad \text{con } x \in \mathbb{R},$$

- calcolare il limite puntuale  $\phi_\infty(x)$ ,
- determinare in quali intervalli  $\phi_n$  converge uniformemente a  $\phi_\infty$ .

i) Per  $x \neq 0$  si ha evidentemente  $\lim_{n \rightarrow \infty} \phi_n(x) = x \lim_{n \rightarrow \infty} \frac{n^2x^2 + 2}{n^2x^2 + 1} = x \cdot 1 = x$

Ovviamente per  $x = 0$  si ha  $\phi_n(0) = 0 \quad \forall n$ .  
Quindi il limite puntuale vale  $\phi_\infty(x) = x$ .

ii) Vediamo se si ha convergenza uniforme in  $\mathbb{R}$

$$\sup_{x \in \mathbb{R}} |\phi_n(x) - \phi_\infty(x)| = \sup_{x \in \mathbb{R}} \left| x \left( \frac{n^2x^2 + 2}{n^2x^2 + 1} - 1 \right) \right| =$$

$$= \sup_{x \in \mathbb{R}} \frac{|x|}{n^2x^2 + 1}.$$

Studio quindi  $g_n(x) = \frac{|x|}{n^2x^2 + 1}$ . Poiché è pari, la studio per  $x \geq 0$ , dove vale  $\frac{x}{n^2x^2 + 1}$ .

$$g_n'(x) = \frac{n^2x^2 + 1 - 2n^2x^2}{(n^2x^2 + 1)^2} = \frac{1 - n^2x^2}{(n^2x^2 + 1)^2}$$

Quindi  $g_n'(x) = 0$  per  $x = \frac{1}{n}$   
 $g_n'(x) < 0$  per  $x > \frac{1}{n}$   
 $g_n'(x) > 0$  per  $0 < x < \frac{1}{n}$

Quindi  $\sup_{x \in \mathbb{R}} g_n(x) = g_n\left(\frac{1}{n}\right) = \frac{\frac{1}{n}}{2} = \frac{1}{2n} \xrightarrow{n \rightarrow \infty} 0$

Pertanto si ha convergenza uniforme in tutto  $\mathbb{R}$  (e quindi anche in ogni sottoinsieme di  $\mathbb{R}$ )

## FILA A - Esercizio 2

**Esercizio 2.** Data la funzione

$$f(x, y) = x^4 y - x y^4 + 5xy$$

i. trovare e classificare tutti i punti critici della funzione,

ii. trovare massimo e minimo assoluti della funzione nell'insieme  $T = \{x \leq 0 \leq y, x^3 - y^3 + 5 \geq 0\}$ .

i) Si ha

$$f_x(x, y) = 4x^3 y - y^4 + 5y = y(4x^3 - y^3 + 5)$$

$$f_y(x, y) = x^4 - 4xy^3 + 5x = x(x^3 - 4y^3 + 5)$$

I pti critici di  $f$  sono le soluzioni del sistema

$$\begin{cases} y(4x^3 - y^3 + 5) = 0 \\ x(x^3 - 4y^3 + 5) = 0 \end{cases}$$

e cioè:

$$\begin{cases} y = 0 \\ x = 0 \end{cases} \Rightarrow P_1(0, 0)$$

$$\begin{cases} y = 0 \\ x^3 - 4y^3 + 5 = 0 \end{cases} \Rightarrow P_2(-\sqrt[3]{5}, 0)$$

$$\begin{cases} 4x^3 - y^3 + 5 = 0 \\ x = 0 \end{cases} \Rightarrow P_3(0, \sqrt[3]{5})$$

$$\begin{cases} 4x^3 - y^3 + 5 = 0 \\ x^3 - 4y^3 + 5 = 0 \end{cases} \Rightarrow P_4(-1, 1)$$

Procediamo alla classificazione dei punti critici.

Si ha

$$f_{xx}(x,y) = 12x^2y$$

$$f_{xy}(x,y) = 4x^3 - 4y^3 + 5$$

$$f_{yy}(x,y) = -12xy^2$$

Quindi

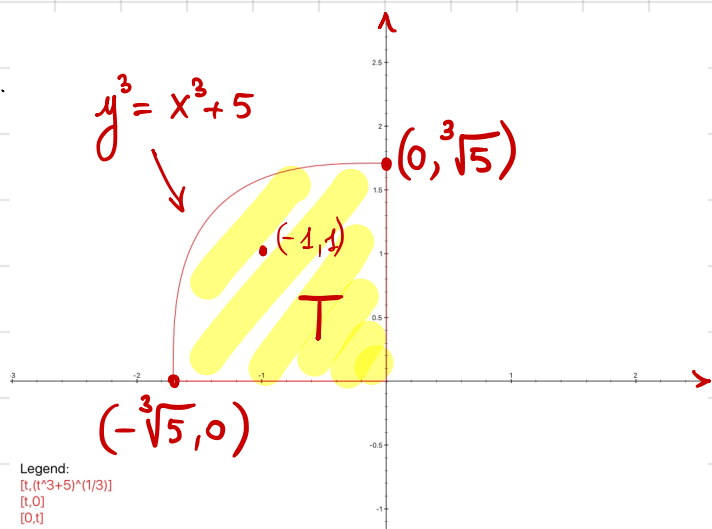
$$D^2 f(0,0) = \begin{pmatrix} 0 & 5 \\ 5 & 0 \end{pmatrix} \Rightarrow \det D^2 f(0,0) < 0 \Rightarrow (0,0) \text{ pto di sella}$$

$$D^2 f(-\sqrt[3]{5}, 0) = \begin{pmatrix} 0 & -15 \\ -15 & 0 \end{pmatrix} \Rightarrow (-\sqrt[3]{5}, 0) \text{ p.to di sella}$$

$$D^2 f(0, \sqrt[3]{5}) = \begin{pmatrix} 0 & -15 \\ -15 & 0 \end{pmatrix} \Rightarrow (0, \sqrt[3]{5}) \text{ p.to di sella}$$

$$D^2 f(-1, 1) = \begin{pmatrix} 12 & -3 \\ -3 & 12 \end{pmatrix} \Rightarrow \left. \begin{array}{l} \det D^2 f(-1, 1) > 0 \\ f_{xx}(-1, 1) > 0 \end{array} \right\} \Rightarrow (-1, 1) \text{ pto di minimo relativo.}$$

ii).



Si vede facilmente che il dominio  $T$  è fatto come mostrato a lato. È evidentemente chiuso e limitato. Quindi, per il teorema di Weierstrass, massimo e minimo di  $f$  in  $T$  esistono sicuramente.

Su  $\partial T$   $f \equiv 0$ . All'interno di  $T$   $f$  è negativa. Il minimo assoluto è assunto nell'unico punto critico interno  $(-1, 1)$ .

$$\text{Quindi } \max_T f = 0, \quad \min_T f = f(-1, 1) = -3$$

# FILA A

**Esercizio 3.** Dato il campo vettoriale  $\mathbf{F} = (yz, -xz, xy)$  calcolare

$$\int_S (\text{rot}(\mathbf{F}) \cdot \mathbf{n}) d\sigma,$$

dove  $S \subset \mathbb{R}^3$  è la parte della superficie sferica  $\{x^2 + y^2 + z^2 = 4\}$  compresa tra i piani  $\{z = 0\}$  e  $\{z = \sqrt{3}\}$ , dove  $\mathbf{n}$  indica l'usuale normale uscente dalla sfera.

Utilizzando il teorema di Stokes, si ottiene che il flusso richiesto è uguale alla circuitazione di  $\mathbf{F}$  lungo il bordo di  $S$ .

Il bordo di  $S$ , orientato positivamente rispetto al vettore normale indicato, è dato dalla circonferenza

$\gamma_1 = \{x^2 + y^2 = 4, z = 0\}$ , percorsa in verso antiorario se vista "dall'alto" e dalla circonferenza

$\gamma_2 = \{x^2 + y^2 = 1, z = \sqrt{3}\}$ , percorsa in verso orario se vista "dall'alto"

Quindi

$$\int_{\partial^+ S} \mathbf{F} \cdot \underline{\mathbf{T}} ds = \underbrace{\int_{\gamma_1} \mathbf{F} \cdot \underline{\mathbf{T}} ds}_{0} + \int_{\gamma_2} \mathbf{F} \cdot \underline{\mathbf{T}} ds =$$

essendo  $\gamma_2^-$  verso negativo parametrizzato come

$$\begin{cases} x = \cos t \\ y = \sin t \\ z = \sqrt{3} \end{cases} \quad t \in [0, 2\pi]$$

$$= - \int_0^{2\pi} [(\sqrt{3} \sin t)(-\sin t) - \sqrt{3} \cos t \cdot \cos t] dt =$$

$$= \sqrt{3} \cdot \int_0^{2\pi} 1 dt = 2\sqrt{3}\pi$$

In alternativa, si può fare il calcolo diretto, essendo

$$\text{rot } \underline{F} = (2x, 0, -2z)$$

ed essendo  $S$  parametrizzate come

$$\psi \begin{cases} x = 2 \sin \theta \cos \varphi \\ y = 2 \sin \theta \sin \varphi \\ z = 2 \cos \theta \end{cases} \quad (\theta, \varphi) \in \left[ \frac{\pi}{6}, \frac{\pi}{2} \right] \times [0, 2\pi]$$

ed avendosi

$$\psi_{\theta} = (2 \cos \theta \cos \varphi, 2 \cos \theta \sin \varphi, -2 \sin \theta)$$

$$\psi_{\varphi} = (-2 \sin \theta \sin \varphi, 2 \sin \theta \cos \varphi, 0)$$

i tre minori dello jacobiano di  $\psi$  valgono

$$A(\theta, \varphi) = 4 \sin^2 \theta \cos \varphi; \quad B(\theta, \varphi) = 4 \sin^2 \theta \sin \varphi; \quad C(\theta, \varphi) = 4 \cos \theta \sin \theta$$

(osserviamo che questa orientazione coincide con quella prescritta).

Si ha quindi

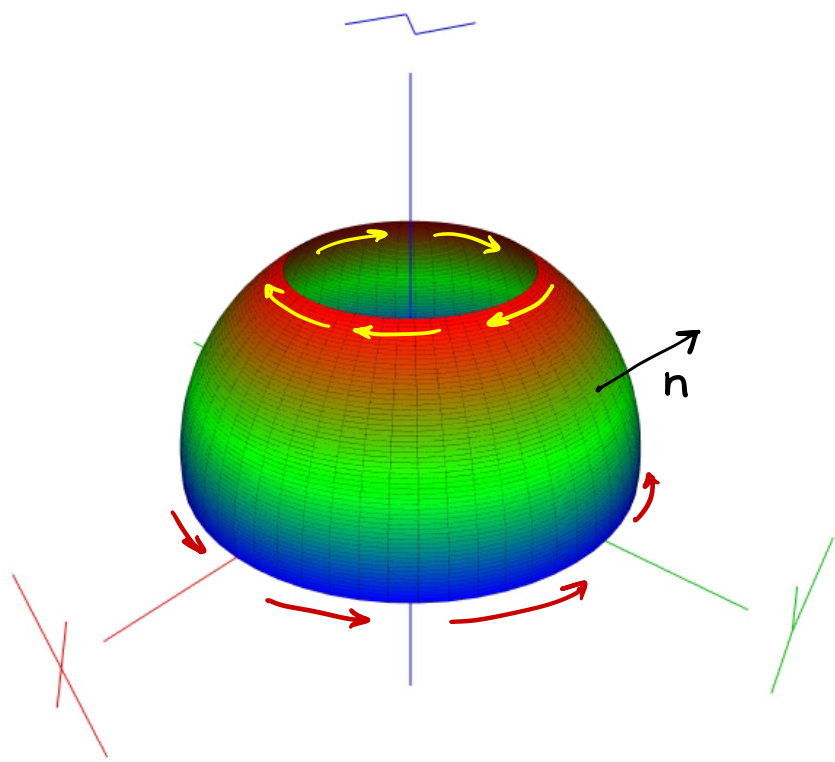
$$\iint_S (\text{rot } \underline{F}) \cdot \underline{n} \, d\sigma = \int_{\frac{\pi}{6}}^{\pi/2} d\theta \int_0^{2\pi} d\varphi [4 \sin \theta \cos \varphi \cdot 4 \sin^2 \theta \cos \varphi - 4 \cos \theta \cdot 4 \cos \theta \sin \theta] =$$

$$= 16 \int_{\frac{\pi}{6}}^{\pi/2} d\theta \left[ \sin^3 \theta \underbrace{\int_0^{2\pi} \cos^2 \varphi \, d\varphi}_{\pi} - \cos^2 \theta \sin \theta \cdot \underbrace{\int_0^{2\pi} d\varphi}_{2\pi} \right] =$$

$$= 16\pi \int_{\frac{\pi}{6}}^{\pi/2} d\theta [\sin^3 \theta - 2 \cos^2 \theta \sin \theta] =$$

$$= 16\pi \int_{\frac{\pi}{6}}^{\pi/2} d\theta \sin \theta [1 - 3 \cos^2 \theta] = 16\pi \left( -\cos \theta + \cos^3 \theta \right) \Big|_{\frac{\pi}{6}}^{\pi/2} =$$

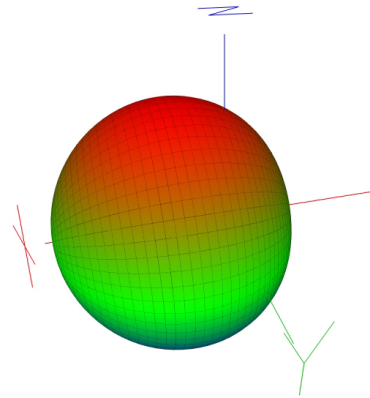
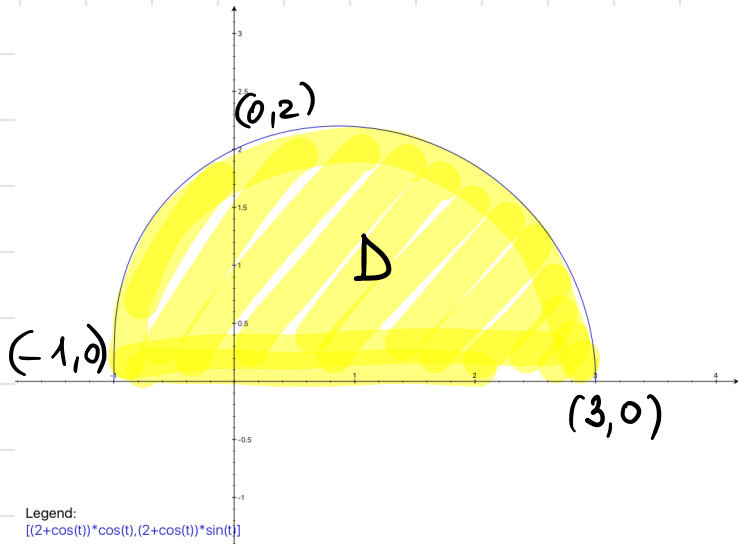
$$= 16\pi \left( \frac{\sqrt{3}}{2} - \frac{3\sqrt{3}}{8} \right) = 2\sqrt{3}\pi \quad \square$$





# FILA A

**Esercizio 4.** Sia  $D$  la regione del piano  $xy$  delimitata dall'asse  $x$  e dall'arco di curva di equazione polare  $\rho = 2 + \cos(\theta)$  con  $\theta \in [0, \pi]$ . Calcolare il volume del solido  $E$  ottenuto facendo ruotare  $D$  di un giro completo intorno all'asse  $x$ .



Per il teorema di Guldino, si ha:

$$\begin{aligned} \text{Vol } E &= 2\pi \iint_D y \, dx \, dy = \left[ \text{passando a coordinate polari} \right] \\ &= 2\pi \int_0^\pi d\theta \int_0^{2+\cos\theta} \rho^2 \sin\theta \, d\rho = \frac{2\pi}{3} \int_0^\pi \sin\theta (2+\cos\theta)^3 \, d\theta = \\ &= \frac{\pi}{6} \left( -(2+\cos\theta)^4 \right) \Big|_0^\pi = \frac{\pi}{6} (3^4 - 1) = \frac{40}{3} \pi \end{aligned}$$

$$y'(t) = \frac{3y^{1/3}(t) - y(t)}{1+t^2}, \quad y(0) = y_0.$$

- i. Si assuma  $y_0 = 1$ . Dire se il problema ammette una o più soluzioni e, in caso, determinarle tutte.
- ii. Si assuma  $y_0 = 0$ . Dire se il problema ammette una o più soluzioni e, in caso, determinarle tutte.

i) Il problema di Cauchy ammette evidentemente la soluzione costante

$$y(t) \equiv 1.$$

Poiché in un piccolo intorno del punto  $(t_0, 1)$  la funzione

$$f(t, y) = \frac{3}{2} \frac{y^{1/3} - y}{1+t^2} \text{ è di classe } C^1,$$

sono soddisfatte le ipotesi del teorema di esistenza e unicità in piccolo, pertanto la soluzione trovata è l'unica possibile.

ii) Anche qui c'è la soluzione costante  $y(t) \equiv 0$ .

Tuttavia, a causa del termine  $y^{1/3}$ , non sono verificate le condizioni del teorema di unicità  $\Rightarrow$  potrebbero esistere altre soluzioni.

dividendo per  $y^{1/3} - y$ , si ottiene:

$$\frac{2}{3} \frac{y'}{y^{1/3} - y} = \frac{1}{1+t^2} \quad \text{da cui, integrando in } dt:$$

$$\frac{2}{3} \int \frac{dy}{y^{1/3} - y} = \int \frac{dt}{1+t^2} = \arctg t + c$$

$$\frac{2}{3} \int \frac{dy}{y^{1/3}(1 - y^{2/3})} = \left[ \text{sost. } 1 - y^{2/3} = s \Rightarrow -\frac{2}{3} y^{-1/3} dy = ds \right]$$

$$= - \int \frac{ds}{s} = - \ln |s| = - \ln (1 - y^{2/3}) \quad \left[ \text{ho tolto il modulo perché per } y < 1 \text{ l'argom. è positivo} \right]$$

$$\Rightarrow -\ln(1 - y^{2/3}) = \operatorname{arctg} t + c$$

Imponendo  $y(0) = 0$  si ottiene  $c = 0$

$$\Rightarrow 1 - y^{2/3} = e^{-\operatorname{arctg} t}$$

$$\Rightarrow y^{2/3} = 1 - e^{-\operatorname{arctg} t}$$

Osserviamo che deve essere  $t \geq 0$   
affinché il 2° membro sia  $> 0$

$$\Rightarrow y = \pm (1 - e^{-\operatorname{arctg} t})^{3/2}$$

Quindi abbiamo trovato le tre soluzioni:

$$y(t) \equiv 0 \quad \text{e} \quad y(t) = \begin{cases} 0 & \text{per } t \leq 0 \\ \pm (1 - e^{-\operatorname{arctg} t})^{3/2} & \text{per } t > 0. \end{cases}$$

In realtà ci sono infinite altre soluzioni, della forma

$$y(t) = \begin{cases} 0 & \text{per } t \leq t_0 \\ \pm (1 - e^{\operatorname{arctg} t_0 - \operatorname{arctg} t})^{3/2} & \text{per } t > t_0 \end{cases}$$

$$\forall t_0 > 0.$$

## FILA B

**Esercizio 1.** Si consideri il problema di Cauchy

$$y'(t) = \frac{3 y^{1/3}(t) + y(t)}{1+t^2}, \quad y(0) = y_0.$$

- Si assuma  $y_0 = -1$ . Dire se il problema ammette una o più soluzioni e, in caso, determinarle tutte.
- Si assuma  $y_0 = 0$ . Dire se il problema ammette una o più soluzioni e, in caso, determinarle tutte.

i) Vicino al punto  $(t_0, y_0) = (0, -1)$  la funzione  $f(t, y) = \frac{3}{2} \frac{y^{1/3} + y}{1+t^2}$

è di classe  $C^1$ . Pertanto la soluzione esiste (in piccolo) ed è unica.

Calcoliamola:

$$\frac{2}{3} \frac{y'}{y^{1/3}(1+y^{2/3})} = \frac{1}{1+t^2}$$

$$\Rightarrow \frac{2}{3} \int \frac{dy}{y^{1/3}(1+y^{2/3})} = \int \frac{dt}{1+t^2} = \arctan t + c$$

" "  
 $\ln(1+y^{2/3})$

Dalla condizione iniziale si ottiene  $c = \ln 2$ . Pertanto si ottiene la soluzione

$$1+y^{2/3} = 2 e^{\arctan t} \Rightarrow y = -\left(2 e^{\arctan t} - 1\right)$$

ii) Nell'intorno del punto  $(0, 0)$  la funzione a secondo membro dell'equazione non è localmente lipschitziana rispetto a  $y$ . Pertanto l'unicità non è garantita. Infatti esiste la soluzione costante  $y(t) = 0$ , ma anche le due soluzioni (che si trovano come al punto precedente)

$$y(t) = \pm \left(e^{\arctan t} - 1\right)^{3/2}$$

Anzi, esistono  $\infty$  soluzioni della forma

$$y(t) = \begin{cases} 0 & \text{per } t \leq t_0 \\ \pm (e^{\operatorname{arctg} t - \operatorname{arctg} t_0} - 1)^{3/2} & \text{per } t > t_0, \end{cases}$$

qualsunque sia  $t_0 > 0$ .

# FILA B

**Esercizio 2.** Data la successione di funzioni

$$\phi_n(x) = \frac{x(n^2x^2 + 3)}{n^2x^2 + 2} \quad \text{con } x \in \mathbb{R},$$

- i. calcolare il limite puntuale  $\phi_\infty(x)$ ,
- ii. determinare gli intervalli in cui  $\phi_n$  converge uniformemente a  $\phi_\infty$ .

i) come prima, si ha  $\phi_\infty(x) = x$ .

$$\begin{aligned} \text{ii) } \phi_n(x) - \phi(x) &= \frac{x(n^2x^2 + 3)}{n^2x^2 + 2} - x = \\ &= \frac{x}{n^2x^2 + 2} [n^2x^2 + 3 - n^2x^2 - 2] = \frac{x}{n^2x^2 + 2} \end{aligned}$$

Poniamo  $g_n(x) = \frac{x}{n^2x^2 + 2}$ , vogliamo controllare se

$\sup_{x \in \mathbb{R}} |g_n(x)| \xrightarrow{n \rightarrow \infty} 0$ . Per la parità di  $g_n(x)$ , basta studiarlo per  $x > 0$ .

$$g'_n(x) = \frac{n^2x^2 + 2 - 2n^2x^2}{(n^2x^2 + 2)^2} = \frac{2 - n^2x^2}{(n^2x^2 + 2)^2} \quad \text{ha max. per } x = \frac{\sqrt{2}}{n}$$

$$\sup_{[0,1]} g_n(x) = g_n\left(\frac{\sqrt{2}}{n}\right) = \frac{\sqrt{2}}{n} \cdot \frac{1}{4} \xrightarrow{n \rightarrow \infty} 0$$

Quindi si ha conv. uniforme in tutto  $\mathbb{R}$ , e ovviamente in ogni sottinsieme di  $\mathbb{R}$ .

# FILAB

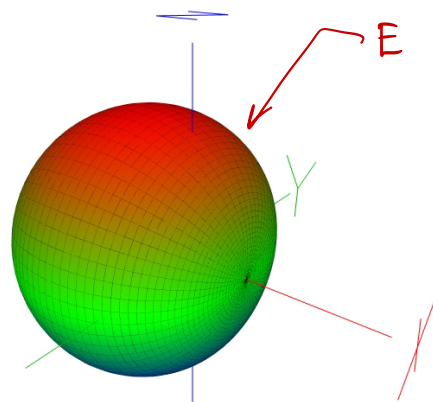
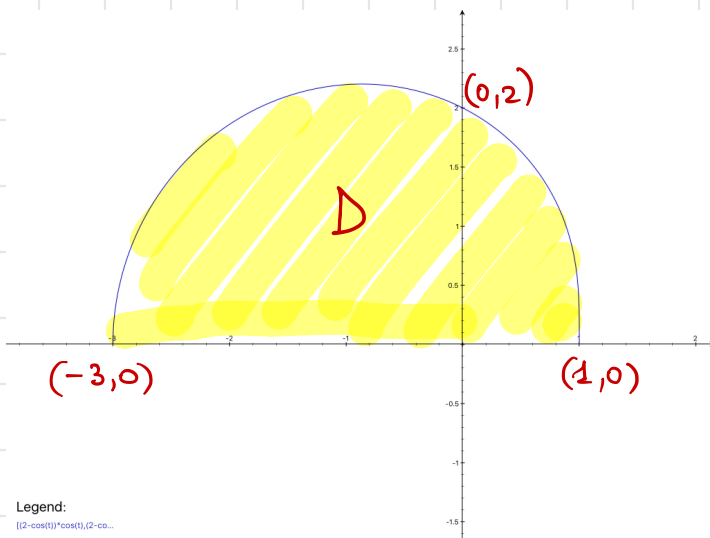
**Esercizio 3.** Sia  $D$  la regione del piano  $xy$  delimitata dall'asse  $x$  e dall'arco di curva di equazione polare  $\rho = 2 - \cos(\theta)$  con  $\theta \in [0, \pi]$ . Calcolare il volume del solido  $E$  ottenuto facendo ruotare  $D$  di un giro completo intorno all'asse  $x$ .

Per Guldino, si ha

$$\text{vol}(E) = 2\pi \iint_D y \, dx \, dy = 2\pi \int_0^\pi d\theta \int_0^{2-\cos\theta} dp \, \rho^2 \text{sen}\theta =$$

$$= \frac{2\pi}{3} \int_0^\pi d\theta \text{sen}\theta (2-\cos\theta)^3 = \left[ \begin{array}{l} \text{sost. } 2-\cos\theta = t \\ \text{sen}\theta d\theta = dt \end{array} \right]$$

$$= \frac{\pi}{6} (2-\cos\theta)^4 \Big|_0^\pi = \frac{\pi}{6} (3^4 - 1) = \frac{40\pi}{3}$$



# FILAB

Esercizio 4. Dato il campo vettoriale  $\mathbf{F} = (-yz, xz, xy)$  calcolare

$$\int_S (\text{rot}(\mathbf{F}) \cdot \mathbf{n}) d\sigma$$

dove  $S \subset \mathbb{R}^3$  è la parte della superficie sferica  $\{x^2 + y^2 + z^2 = 4\}$  compresa tra i piani  $\{z = -1\}$  e  $\{z = 0\}$ , dove  $\mathbf{n}$  indica l'usuale normale uscente dalla sfera.

1) Usando il teorema di Stokes, basta calcolare

$$\int_{b^+ S} \underline{\mathbf{F}} \cdot \underline{\mathbf{T}} ds, \text{ dove } b^+ S \text{ è il bordo di } S \text{ orientato in verso positivo rispetto all'orientazione scelta per la normale}$$

Il bordo è costituito dalla circonferenza

$$\gamma_1 = \{x^2 + y^2 = 4, z = 0\} \text{ percorsa in verso orario, vista "dall'alto",}$$

e dalla circonferenza

$$\gamma_2 = \{x^2 + y^2 = 3, z = -1\} \text{ percorsa in verso antiorario, vista "dall'alto".}$$

← cioè percorsa in verso negativo  
 $\gamma_1^-$  si parametrizza come

$$\begin{cases} x = 2 \cos \theta \\ y = 2 \sin \theta \\ z = 0 \end{cases} \quad \theta \in [0, 2\pi]$$

mentre  $\gamma_2$  si parametrizza come

$$\begin{cases} x = \sqrt{3} \cos \theta \\ y = \sqrt{3} \sin \theta \\ z = -1 \end{cases} \quad \theta \in [0, 2\pi].$$

$$\text{Quindi } \int_{b^+ S} \underline{\mathbf{F}} \cdot \underline{\mathbf{T}} ds = - \int_{\gamma_1^-} \underline{\mathbf{F}} \cdot \underline{\mathbf{T}} ds + \int_{\gamma_2} \underline{\mathbf{F}} \cdot \underline{\mathbf{T}} ds =$$

$$= \int_0^{2\pi} [(\sqrt{3} \sin \theta)(-\sqrt{3} \sin \theta) - \sqrt{3} \cos \theta \cdot (\sqrt{3} \cos \theta)] d\theta = -3 \int_0^{2\pi} 1 d\theta =$$

$$= -6\pi$$



2) In alternativa, si può fare il calcolo diretto:

$$(-yz, xz, xy)$$

$$\text{rot } F = \det \begin{bmatrix} \underline{i} & \underline{j} & \underline{k} \\ \partial_x & \partial_y & \partial_z \\ -yz & xz & xy \end{bmatrix} = (0, -2y, 2z)$$

Del resto la sfera si parametrizza come

$$\psi \begin{cases} x = 2 \sin \theta \cos \varphi \\ y = 2 \sin \theta \sin \varphi \\ z = 2 \cos \theta \end{cases} \quad (\theta, \varphi) \in \left[ \frac{\pi}{2}, \frac{2\pi}{3} \right] \times [0, 2\pi]$$

ed avendosi

$$\psi_\theta = (2 \cos \theta \cos \varphi, 2 \cos \theta \sin \varphi, -2 \sin \theta)$$

$$\psi_\varphi = (-2 \sin \theta \sin \varphi, 2 \sin \theta \cos \varphi, 0)$$

i tre minori dello jacobiano di  $\psi$  valgono

$$A(\theta, \varphi) = 4 \sin^2 \theta \cos \varphi; \quad B(\theta, \varphi) = 4 \sin^2 \theta \sin \varphi; \quad C(\theta, \varphi) = 4 \cos \theta \sin \theta$$

(osserviamo che questa orientazione coincide con quella prescritta).

L'integrale vale:

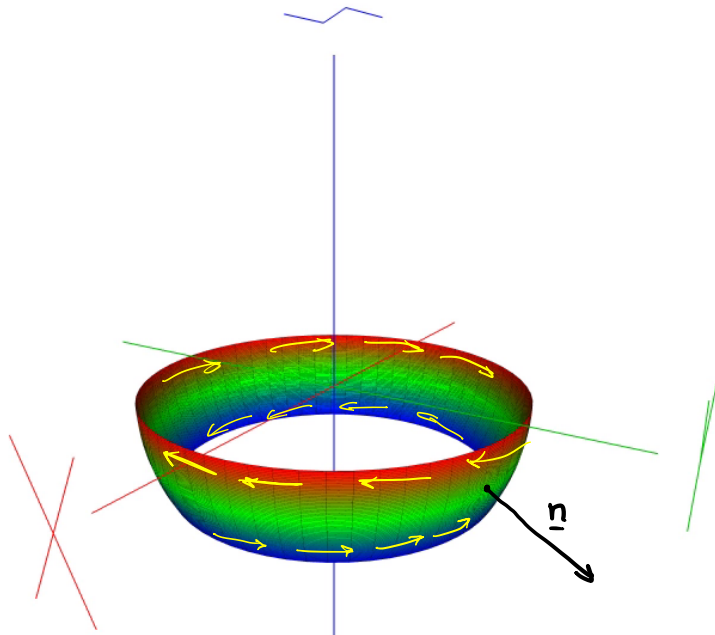
$$\int_{\pi/2}^{2\pi/3} d\theta \int_0^{2\pi} d\varphi \left[ (-4 \sin \theta \sin \varphi) 4 \sin^2 \theta \sin \varphi + 4 \cos \theta \cdot 4 \cos \theta \sin \theta \right] d\theta =$$
$$= 16 \int_{\pi/2}^{2\pi/3} \left[ -\sin^3 \theta \underbrace{\int_0^{2\pi} \sin^2 \varphi d\varphi}_\pi + \cos^2 \theta \sin \theta \cdot 2\pi \right] d\theta =$$

$$= 16\pi \int_{\pi/2}^{2\pi/3} [-\sin^3\theta + 2\cos^2\theta\sin\theta] d\theta =$$

$$= 16\pi \int_{\pi/2}^{2\pi/3} \sin\theta [3\cos^2\theta - 1] d\theta = \left[ \text{subst. } \cos\theta = v \right. \\ \left. -\sin\theta d\theta = dv \right]$$

$$= 16\pi \left( \cos\theta - \cos^3\theta \right) \Big|_{\pi/2}^{2\pi/3} =$$

$$= 16\pi \cdot \left( -\frac{1}{2} + \frac{1}{8} \right) = -16\pi \frac{3}{8} = -6\pi$$



# FILA B

Esercizio 5. Data la funzione

$$f(x, y) = xy^4 + x^4y - 5xy$$

i. trovare e classificare tutti i punti critici della funzione,

ii. trovare massimo e minimo assoluti della funzione nell'insieme  $T = \{x \geq 0, y \geq 0, y^3 + x^3 - 5 \leq 0\}$ .

$$\text{Si ha } f_x(x, y) = y^4 + 4x^3y - 5y = y(y^3 + 4x^3 - 5)$$

$$f_y(x, y) = 4xy^3 + x^4 - 5x = x(4y^3 + x^3 - 5)$$

I pti critici sono le soluzioni del sistema

$$\begin{cases} y(y^3 + 4x^3 - 5) = 0 \\ x(4y^3 + x^3 - 5) = 0 \end{cases}, \text{ che sono:}$$

$$\begin{cases} x = 0 \\ y = 0 \end{cases} \Rightarrow (0, 0)$$

$$\begin{cases} y = 0 \\ 4y^3 + x^3 - 5 = 0 \end{cases} \Rightarrow (+\sqrt[3]{5}, 0)$$

$$\begin{cases} y^3 + 4x^3 - 5 = 0 \\ x = 0 \end{cases} \Rightarrow (0, \sqrt[3]{5})$$

$$\begin{cases} y^3 + 4x^3 - 5 = 0 \\ 4y^3 + x^3 - 5 = 0 \end{cases} \Rightarrow (1, 1)$$

Studio i quattro punti critici trovati. Si ha

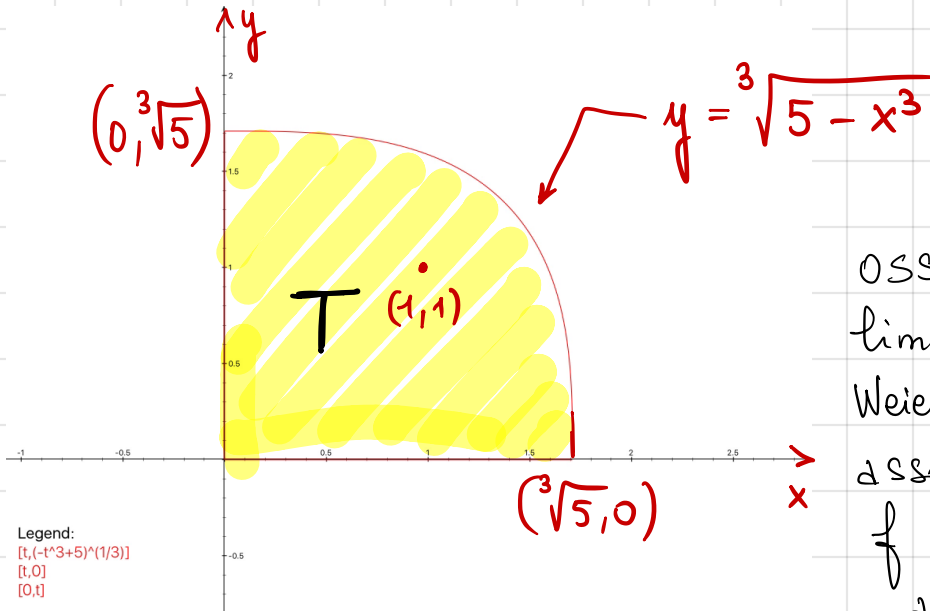
$$f_{xx}(x, y) = 12x^2y; \quad f_{xy}(x, y) = 4y^3 + 4x^3 - 5; \quad f_{yy}(x, y) = 12xy^2.$$

$$D^2 f(0, 0) = \begin{bmatrix} 0 & -5 \\ -5 & 0 \end{bmatrix} \Rightarrow \det D^2 f(0, 0) < 0 \Rightarrow (0, 0) \text{ pto di sella}$$

$$D^2 f(\sqrt[3]{5}, 0) = \begin{bmatrix} 0 & 15 \\ 15 & 0 \end{bmatrix} \Rightarrow \det D^2 f(\sqrt[3]{5}, 0) < 0 \Rightarrow (\sqrt[3]{5}, 0) \text{ pto di sella}$$

$$D^2 f(0, \sqrt[3]{5}) = \begin{bmatrix} 0 & 15 \\ 15 & 0 \end{bmatrix} \Rightarrow \det D^2 f(0, \sqrt[3]{5}) < 0 \Rightarrow (0, \sqrt[3]{5}) \text{ pto di sella}$$

$$D^2 f(1,1) = \begin{bmatrix} 12 & 3 \\ 3 & 12 \end{bmatrix} \Rightarrow \left. \begin{array}{l} \det D^2 f(1,1) > 0 \\ f_{xx}(1,1) > 0 \end{array} \right\} \Rightarrow (1,1) \text{ pto di minimo relativo.}$$



Osserviamo che  $T$  è chiuso e limitato, quindi per il thm. di Weierstrass esistono max. e min. assoluti di  $f$  su  $T$ .

$f$  è nulla su  $\partial T$ , negativa all'interno (si vede dalla

fattorizzazione  $f(x,y) = xy(y^3 + x^3 - 5)$ ).

Quindi il massimo è assunto su tutta la frontiera, e vale zero. Il minimo deve stare nell'unico pto critico interno, cioè  $(1,1)$

$$\min_T f = f(1,1) = -3.$$

